

Ordena z.
Nº orden

HEZIKETA ZIKLOETARA SARTZEKO PROBA PRUEBA DE ACCESO A CICLOS FORMATIVOS

Goi Mailako Zikloak / Ciclos de Grado Superior

Atal espezifikoa / Parte específica

A

Geografia / Geografía

NAN / DNI		Izena / Nombre	
Abizenak / Apellidos			
Sinadura / Firma			

2024ko apirila / abril de 2024

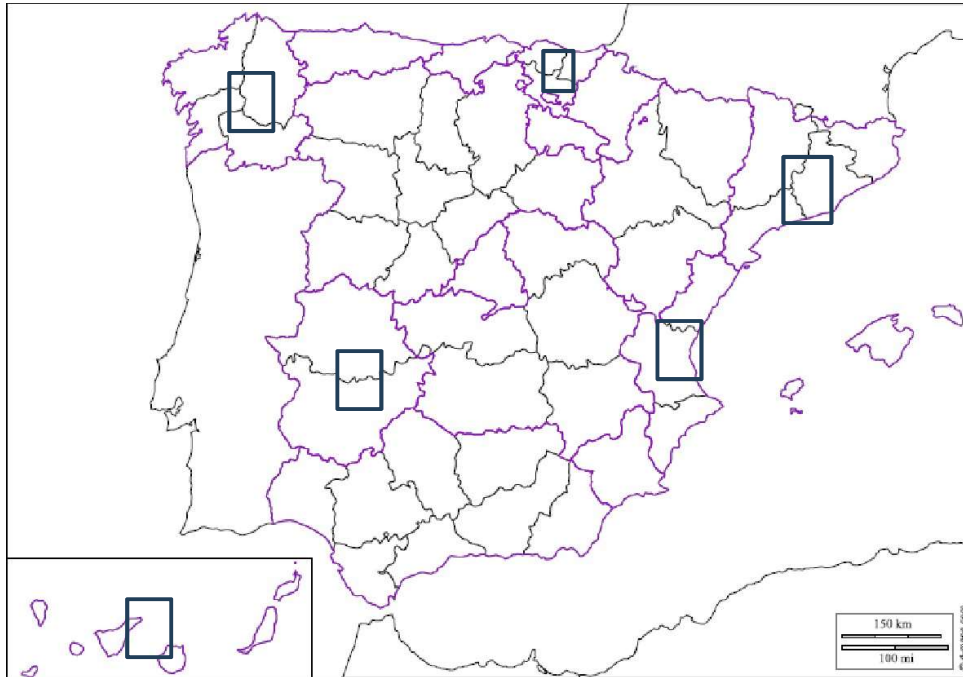


A. LOTU kontzeptu bakoitza bere definizioarekin. horretarako, **BETE** erdiko zutabea, zenbaki bakoitza (kontzeptua) dagokion lekuan idatziz (definizioa). **(2 puntu, 0,4 puntu erantzun zuzen bakoitzeko)**

1. Metropoli- area	Estatu baten oinarritzko araua da, "legeen legetzat" hartzen da. Bertan jasotzen dira oinarritzko printzipio demokratikoak, gobernu-modua, estatuko hiru botereen mugak eta funtzioak (betearazlea, legegilea eta judiziala), lurralde- eta administrazio-antolamendua eta herritarren eskubideak eta betebeharrak.
2. Barne produktu gordina (BPG)	Nekazaritzarekin lotutako industrien multzoa. Nekazaritzako, abeltzaintzako eta basogintzako produktuak eta bestelako baliabide natural biologikoak ekoizten, industrializatzen eta merkaturatzen dituen jarduera ekonomikoa ere bada.
3. Konstituzioa	Hiri nagusi oso dinamiko batek eta bere eraginez, modu osagarrian, hazten diren hurbileko beste hiri batzuek osatzen duten hiri-multzoa. Udalez gaindiko plangintza egiteko eta zerbitzu eta obra jakin batzuk koordinatu ahal izateko, legez onartuta egon behar du.
4. Giza garapenaren indizea (GGI)	Biztanleko herrialde baten aberastasuna neurtzeko erabiltzen den adierazlea da. Horretarako, urtebeteko ekoizpen osoaren balioa urte horretako biztanle kopuruaz zatitzen da. Kalkulua dolarretan egiten da eta Erosteke Ahalmenaren Paritateetan adierazten da.
5. Nekazaritza industria	Herrialde baten ongizate-maila ezagutzeko aukera ematen duen adierazle soziala da. Nazio Batuen Garapenerako Programak (PNUD) egin zuen, eta osasunarekin (jaiotzako bizi-itxaropena), hezkuntzarekin (helduen alfabetatze-tasa eta ikasketa-maila) eta bizi- mailarekin (biztanleko BPGa PPAan dolarretan) lotutako adierazleak hartzen ditu kontuan

B. Egin ESTATU ESPAINIOLAREN inguruko hurrengo bi ariketak **(2 puntu)**

1. **IDATZI** taulan Autonomi- Erkidegoak bere hiriburuarekin eta bakoitzaren banaketa probintzietan, eta **KOKATU** mapan dagokion autonomiaren zenbakia: **(1,5 puntu: 0,05 puntu erantzun zuzen bakoitzeko)**



AUTONOMIA	HIRIBURUA	PROBINTZIAK	AUTONOMIA	HIRIBURUA	PROBINTZIAK
1. GALIZIA			4. KATALUNIA		
2. EAE			5. VALENTZIAR ERKIDEGOA		
3. EXTREMADURA			6. KANARIAR UHARTEAK		

2. Zer da Komunitate Autonomoa? **(0,5 puntu)**

.....

.....

.....

.....

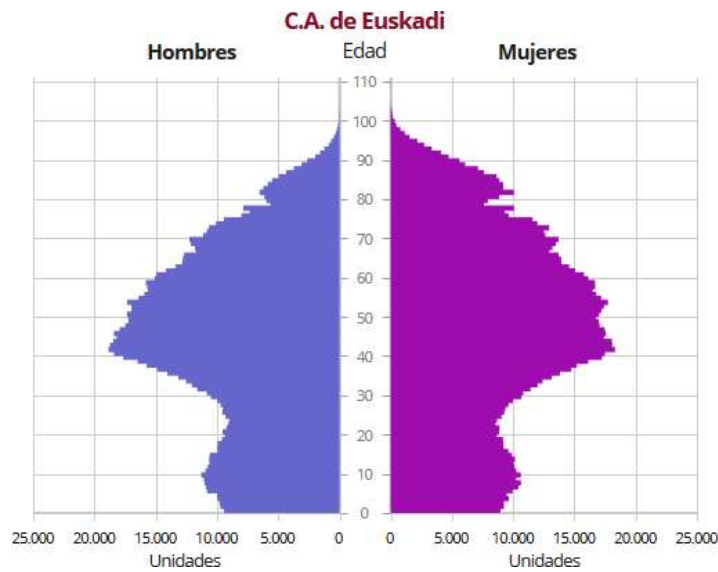
.....

.....

.....

.....

C. Grafikoari arreta ipini eta **EAEko BIZTANLERI- PIRAMIDEA**ren (2023) inguruko galderei erantzun : (2 puntu)



1. Zergatik nabaritzen da biztanleriaren beherakada **80-90 adin tartean?** (0,5 puntu)

.....

.....

.....

.....

2. Zergatik da **40-50 adin tartea** biztanle kopuru altuena duena? (0,5 puntu)

.....

.....

.....

.....

3. Zergatik egon zen biztanle hazkuntza **10- 20 adin tartean?** (0,5 puntu)

.....

.....

.....

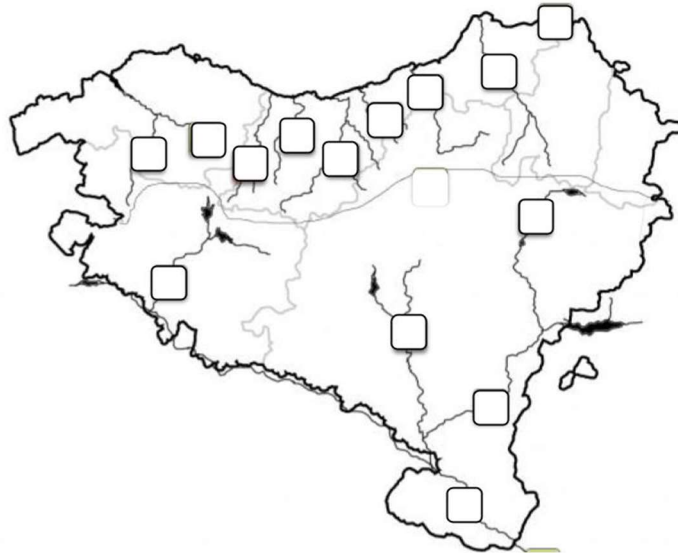
4. Zer nolako **bilakaera** izango du piramide mota honek datorren urteetan? (0,5 puntu)

.....

.....

.....

D. Erantzun hurrengo galderak **EUSKAL HERRIKO SARE HIDROGRAFIKO**aren mapari arreta ipintzen: **(2 puntu)**



1. Kokatu mapan markatutako **IBAIAK** eta idatzi taulan dagokion **ISURIALDE**aren izena. **(1,4 puntu: 0,1 erantzun zuzen bakoitzeko).**

ZKIA.	IBAIA	ISURIALDE	ZKIA.	IBAIA	ISURIALDE
1.	Errobi		8.	Zadorra	
2.	Arga		9.	Bidasoa	
3.	Aturri		10.	Nerbioi	
4.	Irati		11.	Urola	
5.	Ibaizabal		12.	Urumea	
6.	Oria		13.	Ebro	
7.	Deba		14.	Aragoi	

2. Adierazi **EUSKAL HERRIKO ISURIALDE** bakoitzeko ibaien ezaugarri orokorrak: **(0,6 puntu)**

.....

.....

.....

.....

.....

.....

.....

.....

.....

.....



E. Hiriaren morfologia: **ALDE ZAHARRA** eta **ZABALGUNEA** (2 puntu)

1. **SEINALATU** planoetan Alde Zaharra eta Zabalgunea (0,5 puntu mapan ondo seinalatzeagatik)

BILBO



2. **DEFINITU** hurrengo kontzeptuak: (1,5 puntu)

ALDE ZAHARRA: (0,75 puntu)

.....

.....

.....

.....

.....

.....

ZABALGUNEA: (0,75 puntu)

.....

.....

.....

.....

.....

.....



A. Relaciona cada concepto con su **DEFINICIÓN**, para ello completa la columna del medio, escribiendo en el lugar correspondiente (definición) cada número (concepto). **(2 puntos: 0,4 puntos por cada respuesta acertada)**

1. Área metropolitana		Es la norma fundamental de un estado, es considerada "ley de leyes". En ella se recogen los principios democráticos fundamentales, la forma de gobierno, los límites y las funciones de los tres poderes del estado (ejecutivo, legislativo y judicial), la organización territorial y administrativa y los derechos y deberes de los ciudadanos.
2. Producto interior bruto (PIB)		Conjunto de industrias vinculadas a la agricultura. También es la actividad económica que se dedica a la producción, industrialización y comercialización de productos agropecuarios, forestales y otros recursos naturales biológicos.
3. Constitución		Conjunto urbano formado por una ciudad principal muy dinámica y varias inmediatas que, por su influencia, crecen de forma complementaria. Debe poseer un reconocimiento legal que permita realizar un planeamiento supramunicipal y coordinar determinados servicios y obras.
4. Índice de desarrollo humano (IDH)		Es un indicador que se utiliza para medir la riqueza de un país por habitante. Para ello se divide el valor de toda la producción de un año entre el número de habitantes de ese mismo año. El cálculo se realiza en dólares y se expresa en Paridades de Poder Adquisitivo (PPA).
5. Agroindustria		Es un indicador social que permite conocer el grado de bienestar de un país. Fue elaborado por el Programa de las Naciones Unidas para el Desarrollo (PNUD) y considera indicadores relacionados con la salud (esperanza de vida al nacer), la educación (tasa de alfabetización de adultos y nivel de estudios) y el nivel de vida (PIB per cápita en PPA en dólares).



B. Realiza los dos siguientes ejercicios sobre EL ESTADO ESPAÑOL (2 puntos)

1. **ESCRIBE** en la tabla la Comunidad Autónoma con su capital y su distribución por provincias, y en el mapa **SITÚA** el número de autonomía correspondiente: **(1,5 puntos: 0,05 puntos por respuesta correcta)**

2.

AUTONOMÍA	CAPITAL	PROVINCIA	AUTONOMÍA	CAPITAL	PROVINCIA
1. GALICIA			4. CATALUÑA		
2. CAV			5. COMUNIDAD VALENCIANA		
3. EXTREMADURA			6. ISLAS CANARIAS		

3. ¿Qué es la Comunidad Autónoma? **(0,5 puntos)**

.....

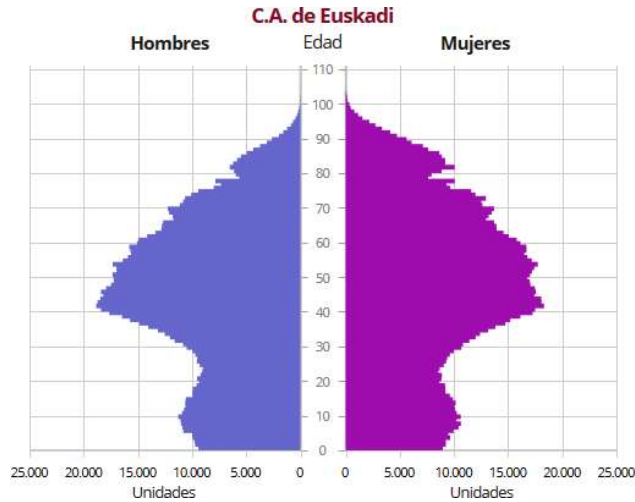
.....

.....

.....

.....

C. Presta atención al gráfico y responde a las preguntas sobre la **PIRÁMIDE DE POBLACIÓN DE LA CAPV (2023): (2 puntos)**



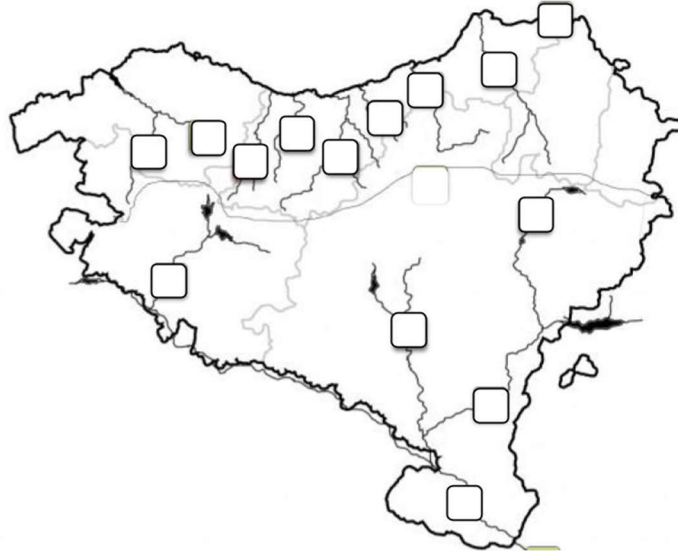
1. ¿Por qué se observa un pequeño descenso de población en el grupo de edad entre **80 y 90 años**? (0,5 puntos)

2. ¿Por qué el intervalo de edad de **40-50 años** es el de mayor número de habitantes? (0,5 puntos)

3. ¿Por qué hubo crecimiento de población en el intervalo de edad de **10-20 años**? (0,5 puntos)

4. ¿Cómo **evolucionará** este tipo de pirámides en los próximos años? (0,5 puntos)

D. Responde a las siguientes preguntas mirando el mapa de la **RED HIDROGRÁFICA DEL PAÍS VASCO: (2 puntos)**



1. Pon los números de los **RÍOS** en el mapa y anota en la tabla el nombre de la **VERTIENTE** correspondiente. **(1,4 puntos: 0,1 por respuesta correcta).**

Nº.	RIO	VERTIENTE	Nº.	RIO	VERTIENTE
1.	Errobi		8.	Zadorra	
2.	Arga		9.	Bidasoa	
3.	Aturri		10.	Nerbioi	
4.	Irati		11.	Urola	
5.	Ibaizabal		12.	Urumea	
6.	Oria		13.	Ebro	
7.	Deba		14.	Aragoi	

2. Indique las características generales de los ríos de cada **VERTIENTE DEL PAÍS VASCO:**
(0,6 puntos)



.....

.....

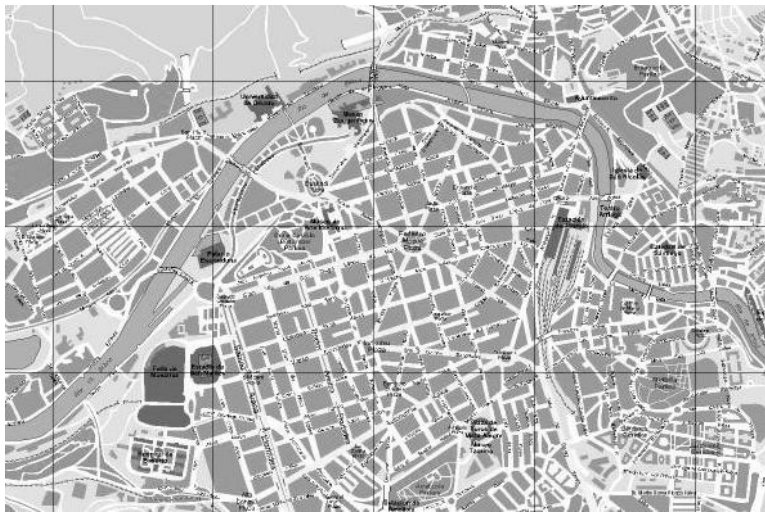
.....

.....

E. Morfología de la ciudad: CASCO VIEJO y ENSANCHE (2 puntos)

- 1. SEÑALAR** en los planos el Casco Viejo y el Ensanche **(0,5 puntos por señalar bien en el mapa)**

BILBAO



- 2. DEFINE** los siguientes conceptos: **(1,5 puntos)**

CASCO VIEJO: (0,75 puntos)

.....

.....

.....

.....

.....

ENSANCHE: (0,75 puntos)

.....

.....

.....

.....

.....