



PRUEBA DE ACCESO A CICLOS FORMATIVOS

HEZIKETA ZIKLOETARA SARTZEKO PROBA

MAYO 2018 / 2018KO APIRILA

ERDI MAILAKO ZIKLOAK / CICLOS DE GRADO MEDIO

ARLO SOZIALA / PARTE SOCIAL

GEOGRAFIA ETA HISTORIA

Abizenak
Apellidos

Izena
Nombre

N.A.N.

D.N.I. _____

IKASLEAREN SINADURA

Firma del alumno/a



I. CADA PREGUNTA TIENE TRES OPCIONES: A, B, C. RODEA CON UN CÍRCULO LA LETRA QUE CORRESPONDE A LA RESPUESTA CORRECTA. (3 p.)

1.- *Los montes, ríos, lagos, etc. se representan en:*

A: Mapas políticos B: Mapas físicos C: Planos

2.- *Europa limita por el sur con:*

A: El mar Mediterráneo B: Los montes Urales C: El océano Atlántico

3.- *Las temperaturas suaves y las precipitaciones abundantes y regularmente repartidas a lo largo del año son características del clima:*

A: Mediterráneo B: Continental C: Oceánico

4.- *Los ríos Ibaizabal y Artibai recorren el territorio de:*

A: Vizcaya B: Álava C: Guipúzcoa

5.- *Los países subdesarrollados tienen respecto a los desarrollados una tasa de crecimiento vegetativo:*

A: Menor B: Igual C: Mayor

6.- *Las ventas que un país realiza a otro extranjero se llaman:*

A: Emigraciones B: Exportaciones C: Importaciones

7.- *Los abogados y abogadas se clasifican en el sector:*

A: Terciario B: Secundario C: Primario

8.- *La capital de la Comunidad Autónoma de Andalucía es:*

A: Córdoba B: Sevilla C: Granada

9.- *El euro no es la moneda oficial de:*

A: Gran Bretaña B: Alemania C: Luxemburgo

10.- *En los países con sistema democrático, el poder judicial lo ejercen:*

A: Los diputados B: Los jueces y magistrados C: Los ministros

11.- *En los regímenes dictatoriales la censura atenta contra la libertad de:*

A: Movimiento B: Manifestación C: Expresión

12.- *La capital de la Unión Europea (UE) se encuentra en:*

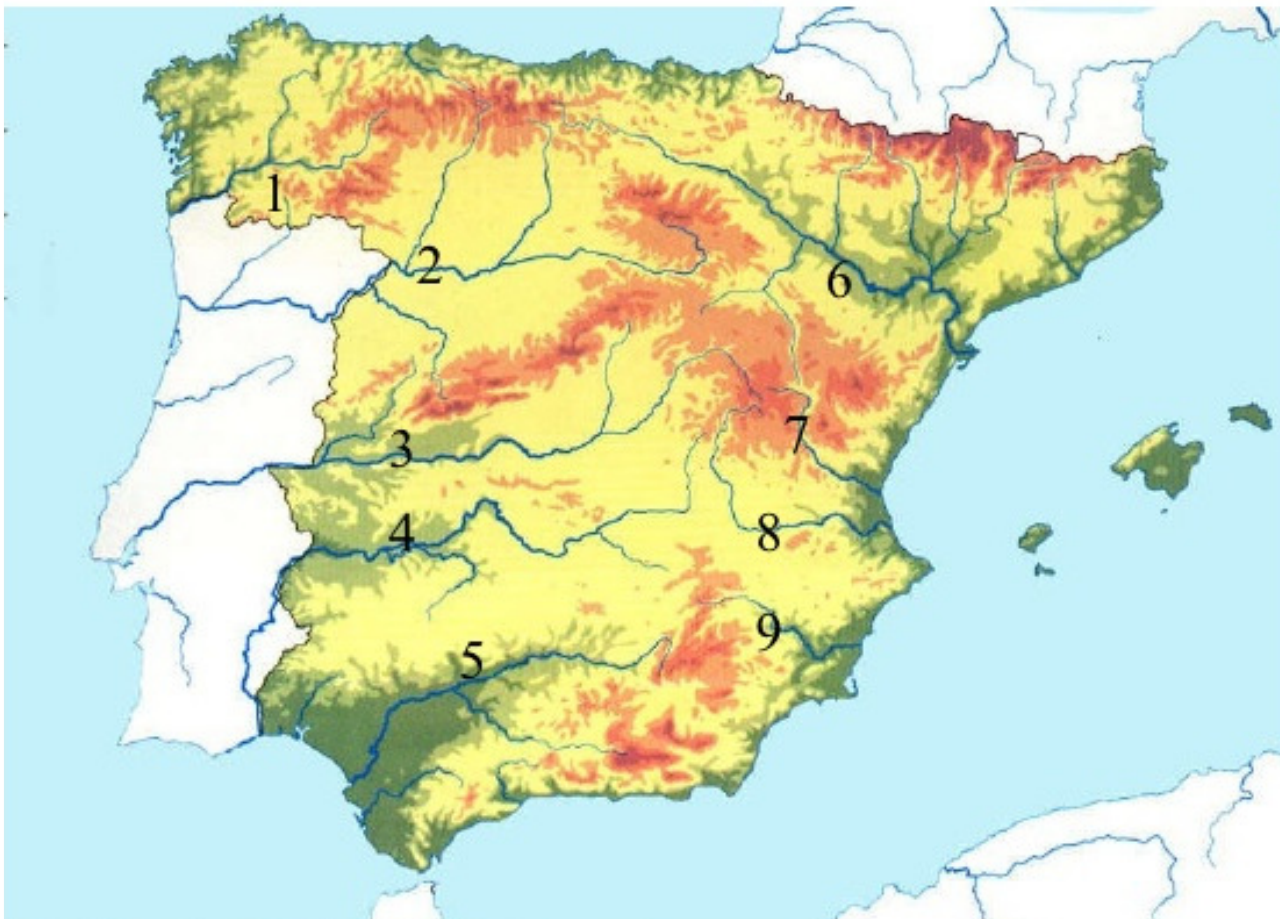
A: París B: Bruselas C: Estrasburgo



II. COMPLETA LA TABLA, ESCRIBIENDO A LA DERECHA DEL NÚMERO LA LETRA CORRECTA QUE LE CORRESPONDE. (2 p.)

1. Liberalismo económico	A. Cambio climático	1	
2. Escala	B. Democracia	2	
3. Subida de precios	C. Mussolini	3	
4. Stalin	D. Pagoda	4	
5. Efecto invernadero	E. Oferta y demanda	5	
6. División de poderes	F. Mapa	6	
7. Fascismo	G. Inflación	7	
8. Pirámide de edad	H. Unión Soviética	8	

III. LOS RÍOS DE LA PENÍNSULA IBÉRICA. (2p.)



Cita a continuación los **ríos** señalados en el mapa, haciendo que coincidan lo números del mismo con los que aparecen abajo.

1:

6:

2:

7:

3:

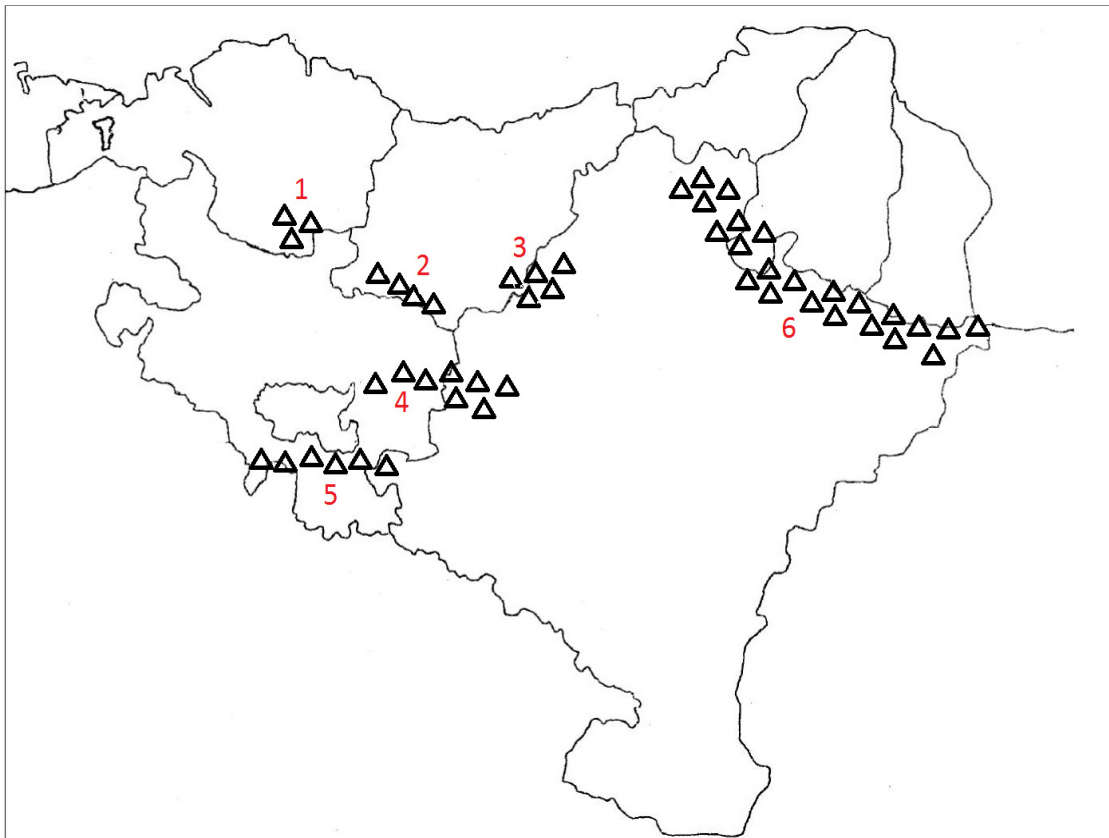
8:

4:

9:

5:





IV. CORDILLERA Y SIERRAS DE EUSKAL HERRIA. (2p.)



Escribe abajo, al lado de su número correspondiente, el nombre de la **cordillera** y **las sierras** que aparecen en el mapa (Sierra de Urbasa, Pirineos, Gorbea, Sierra Cantabria, Aitzgorri y Aralar).

- | | |
|----------|----------|
| 1: | 4: |
| 2: | 5: |
| 3: | 6: |

V. ORDENA, de la época más antigua a la más reciente (escribiendo en el cuadro derecho los números 1, 2, 3 eta 4),y completa el nombre de la edad histórica correspondiente. (1p.)

	<p>EDAD</p>	<p>Número:</p>
	<p>EDAD</p>	<p>Número:</p>
	<p>EDAD</p>	<p>Número:</p>
	<p>.....</p>	<p>Número:</p>



I. GALDERA BAKOITZAK HIRU AUKERA DITU: A, B, C. BOROBILDU ERANTZUN EGOKIARI DAGOKION LETRA. (3p.)

1.- Mendiak, ibaiak, lakuak, etab. azaltzen dira:

A: Mapa politikoetan B: Mapa fisikoetan C: Planoetan

2.- Europaren muga hegoaldeetik da:

A: Mediterranearen itsasoa B: Ural mendiak C: Atlantiar ozeanoa

3.- Tenperatura epelak eta urtean zehar erregularriki banandutako prezipitazio ugariak dituen klima da:

A: Mediterranearra B: Kontinentala C: Ozeanikoa

4.- Ibaizabal eta Artibai ibaiak lurralde hau zeharkatzen dute:

A: Bizkaia B: Araba C: Gipuzkoa

5.- Lurralde ez garatuak garatuak dituen berezko hazkundera da:

A: Baxuagoa B: Berdina C: Altuagoa

6.- Lurralde batek kanpoko beste lurralde bati egiten dizkion salmentak deitzen dira:

A: Emigrazioak B: Esportazioak C: Inportazioak

7.- Abokatuak honako sektorean sailkatzen dira:

A: Hirugarrenean B: Bigarreanean C: Lehenengoan

8.- Andaluziako Autonomi Elkartearen hiriburua da:

A: Kordoba B: Sevilla C: Granada

9.- Euroa non ez da ofiziala?

A: Britainia Handian B: Alemanian C: Luxemburgon

10.- Sistema demokratikoa duten lurraldeetan, botere judiziala dagokie:

A: Diputatuei B: Epailen eta Magistratuei C: Ministrariei

11.- Diktaduratan, zentsurak askatasun mota hau erasotzen du:

A: Mugimendua B: Manifestazioa C: Adierazpena

12.- Europar Batasuneko (EB) hiriburua da:

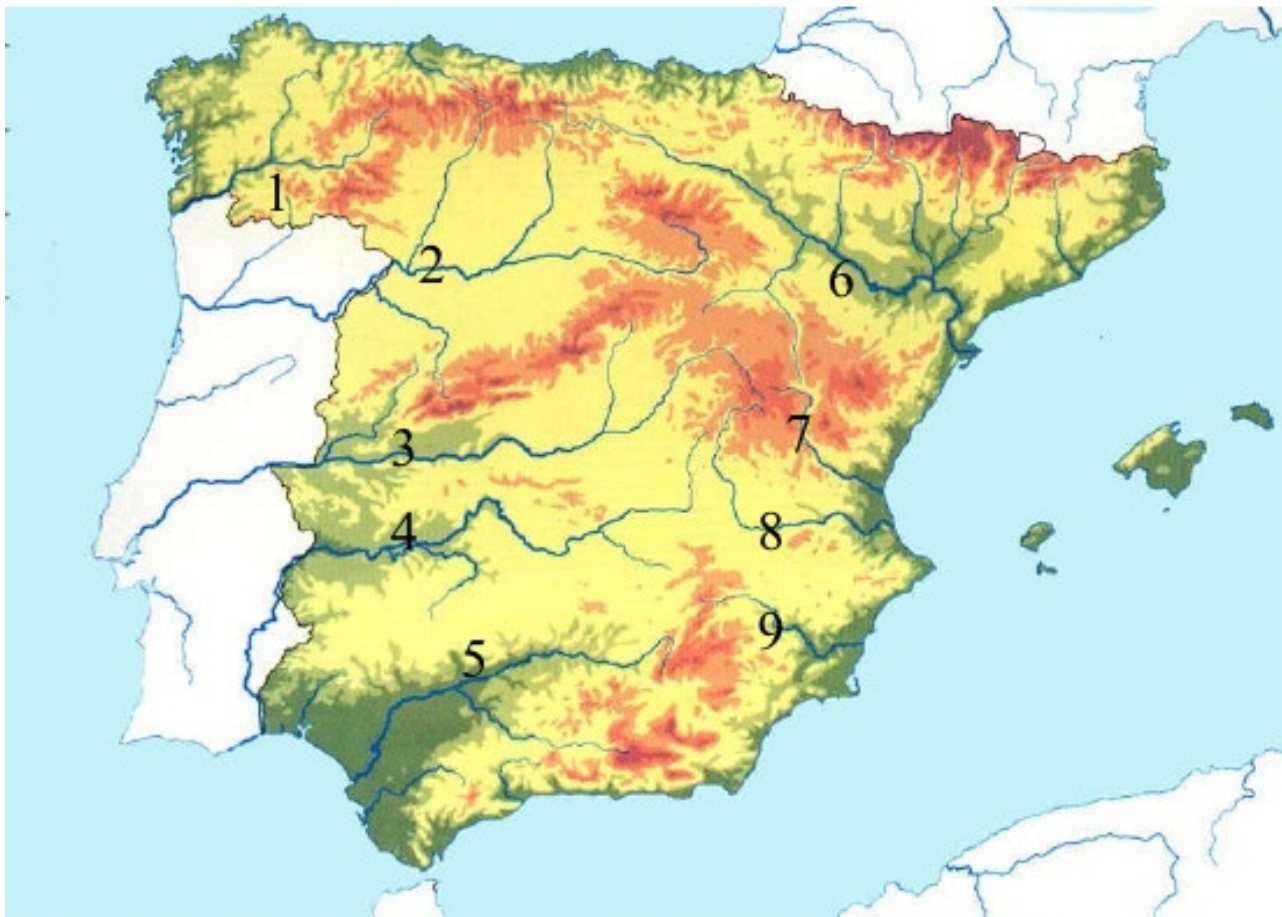
A: Paris B: Brusela C: Strasburg



II. OSA EZAZU ESKUBIKO TAULA, ZENBAKI BAKOITZARI DAGOKION LETRA IDATZIZ. (2p.)

9. Liberalismo ekonomikoa	I. Aldaketa klimatikoa	1	
10. Eskala	J. Demokrazia	2	
11. Prezioen igoera	K. Mussolini	3	
12. Stalin	L. Pagoda	4	
13. Negutegi efektua	M. Eskaintza eta eskaria	5	
14. Botere banaketa	N. mapa	6	
15. Faszismoa	O. Inflazioa	7	
16. Adin piramidea	P. Sobiet Batasuna	8	

III. IBERIAR PENINTSULAKO IBAIAK. (2p.)



Idatzi azpian goiko mapan azaltzen diren **ibaien** izenak, dagozkien zenbakiekin.

1:

6:

2:

7:

3:

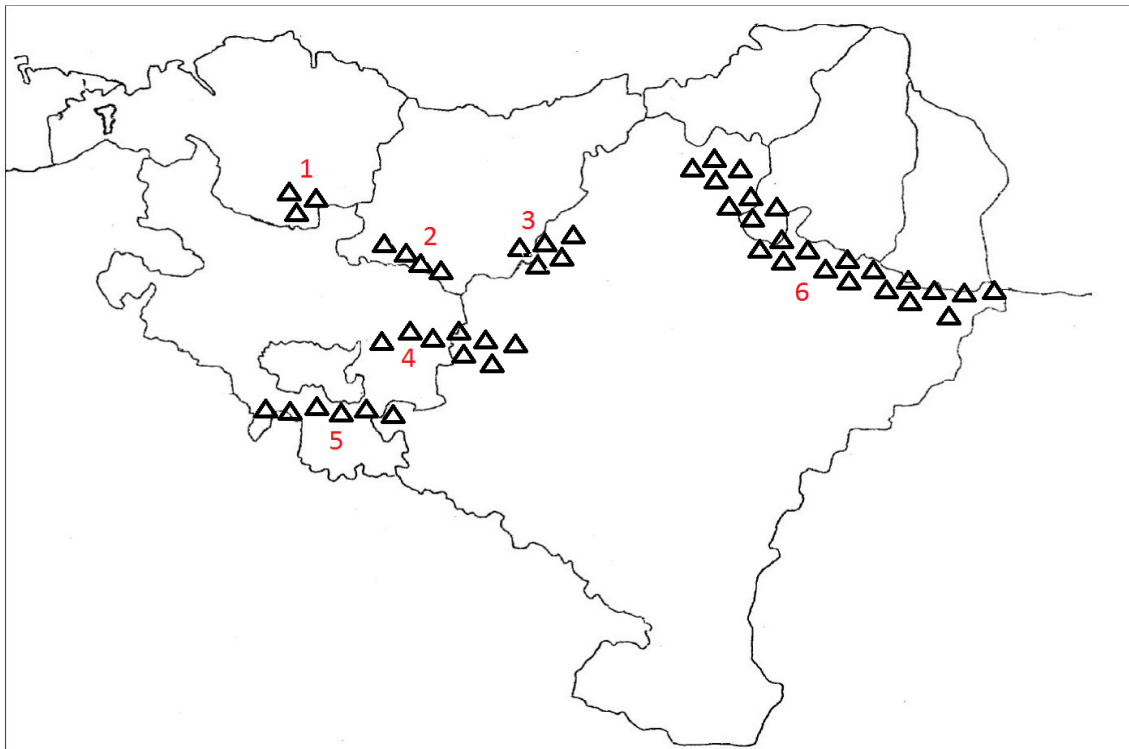
8:

4:

9:

5:

IV. EUSKAL HERRIKO MENDIAK. (2p.)



Idatzi azpian goiko mapan azaltzen diren **mendilerroen** izenak, dagozkien zenbakiekin (Urbasa mendilerroa, Pirinioak, Gorbeia, Kantauri mendilerroa, Aitzgorri eta Aralar).

1:

4:





2:

5:

3:

6:

V. ORDENA ITZAZU zaharretik berrienera (1, 2, 3 eta 4 zenbakiak erabiliz, eskuineko koadroan) eta, dagokion aroaren izena osatuz. **(1p.)**

	<p style="text-align: center;">ARO</p>	<p>Zenbakia: </p>
	<p style="text-align: center;">ARO</p>	<p>Zenbakia: </p>
	<p style="text-align: center;">..... AROA</p>	<p>Zenbakia: </p>
	<p style="text-align: center;">.....</p>	<p>Zenbakia: </p>