



**GRADUADO EN EDUCACIÓN SECUNDARIA**

**PRUEBA LIBRE**

**ÁMBITO SOCIAL**

**MAYO 2018**

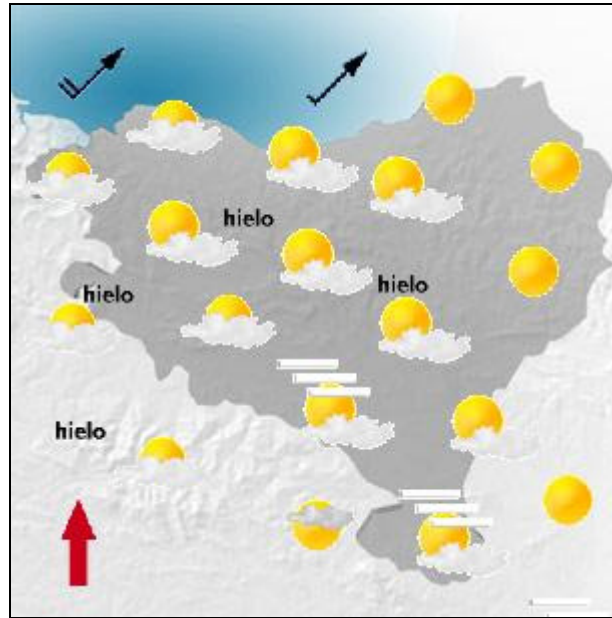
**APELLIDOS Y NOMBRE:** \_\_\_\_\_

**FIRMA:**

**Primera parte**

Cada pregunta vale 0,25 p.  
Puntuación total: 4,5 p.

1. ¿Qué tipo de mapa aparece en la imagen?



2. ¿Qué tipo de elemento relacionado con el desarrollo industrial en Bizkaia es el que aparece en la imagen?



--

3. Cita CINCO países pertenecientes a la Unión Europea.



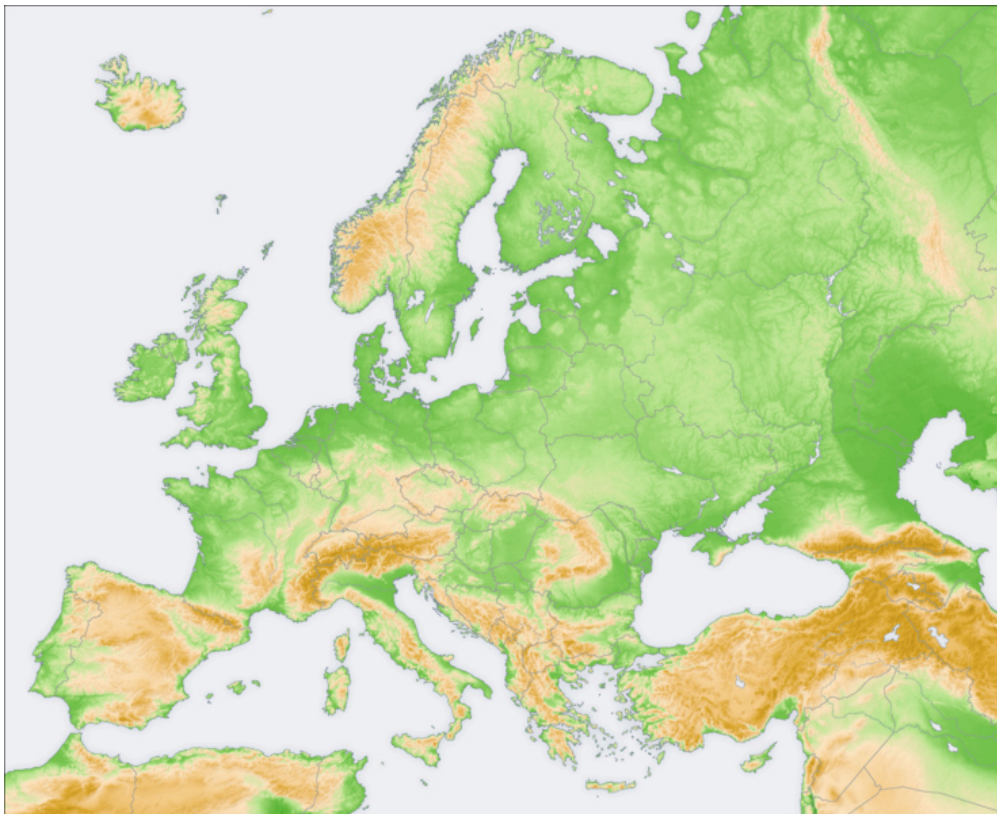
1	
2	
3	
4	
5	

4. Comenta el significado del artículo 13 de la Declaración Universal de Derechos Humanos.

*1. Toda persona tiene derecho a circular libremente y a elegir su residencia en el territorio de un Estado.*

*2. Toda persona tiene derecho a salir de cualquier país, incluso del propio, y a regresar a su país.*

5. Sitúa y nombra en el mapa CUATRO penínsulas europeas.

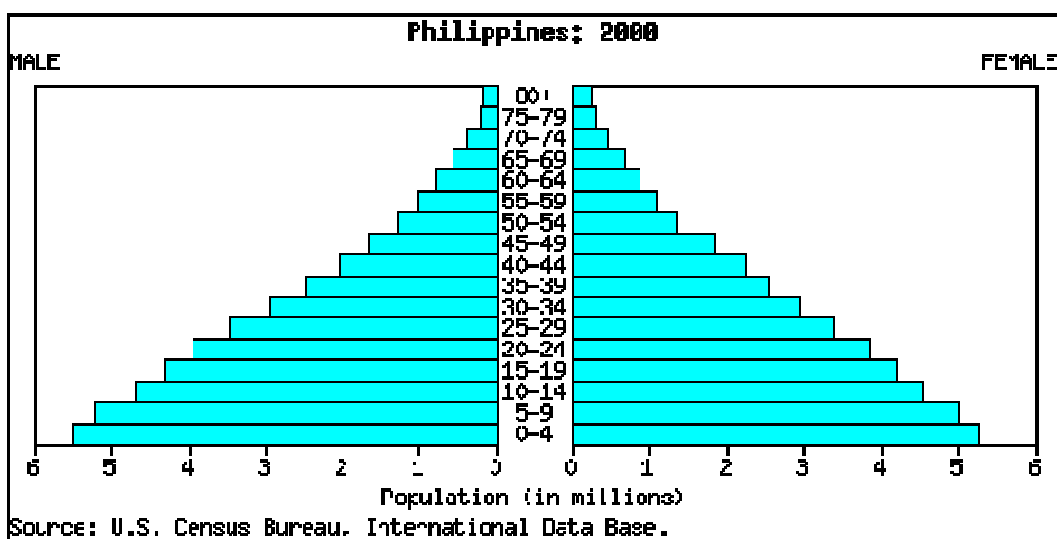


1. ....
2. ....
3. ....
4. ....

6. ¿Qué parte de un río es la que aparece en la imagen?

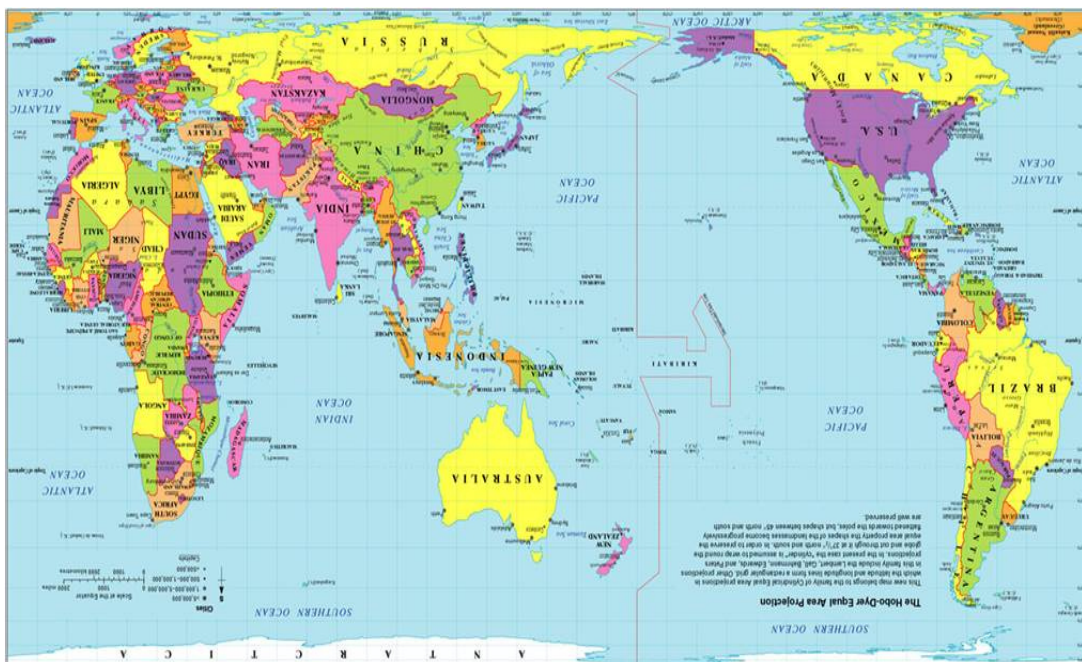


7.-¿Cuál es la característica principal de esta pirámide de población?





8 ¿Desde el punto de vista de qué país o continente del mundo, está elaborado este mapamundi?



9. ¿Qué tipo de datos muestra el siguiente mapa?



10. Relaciona los siguientes datos de la historia del País Vasco

1	Bombardeo de Gernika		Zuloaga
2	Fundación de la Universidad de Oñati		Guerra Civil en Euskadi
3	Creación del Sindicato ELA-STV		Año 1728
4	Fundación de la Villa de Bilbao		1540
5	Pintura "Las brujas de San Millán"		Año 1300
6	Real Compañía Guipuzcoana de Caracas		1911

11. En la guerra de la antigua Yugoslavia se produjo:

- a) Todas las exrepúblicas yugoslavas se integran en la Unión Europea.
- b) Tras la muerte de Tito las repúblicas yugoslavas convivieron pacíficamente bajo el mando de la Unión Soviética.
- c) Tito estableció un régimen sometido a la Unión Soviética.
- d) Tito formó la República Socialista Federativa de Yugoslavia.

12. Ordena cronológicamente en la columna las siguientes épocas y/o hechos históricos...

Invasión de Afganistán por la Unión Soviética	
Transición política en España	
Paleolítico	
Primera Guerra Carlista	
Dictadura de Primo de Rivera	
Revolución cubana	
Edad de los metales	

13. A ¿qué se denominó “cinturón de hierro” de Bilbao?



14. ¿Reconoces al personaje de la historia del País Vasco que aparece en la imagen?




15. Relaciona personajes y sucesos históricos...

1	Benito Mussolini		Presidente de la República de Egipto en 1956
2	G.A.Nasser		Crisis de los misiles de Cuba
3	Mariscal B. Tito		Presidente de la República Checa
4	N.Kruchev		Movimiento de Países no Alineados
5	V. Havel		Marcha sobre Roma

16. A qué nos referimos al hablar de los cuatro “dragones asiáticos”

17. En qué consiste la figura del “Ararteko”

18. ¿Cuál es el tema de esta pintura?



**Segunda parte**  
**Lee el siguiente texto y responde a las preguntas.**  
**Puntuación Total 3 p.**



Con una población de 1.295 millones de habitantes y un crecimiento económico en torno al 8%, cifra inimaginable para las economías desarrolladas, China es el verdadero protagonista del desarrollo del globo. Un estudio de la consultora Roland Berger estima que, en menos de 40 años, podría convertirse en el líder económico mundial, superando a Alemania y Reino Unido en apenas diez años y alcanzando a Japón una década más tarde.

Actualmente, el sector industrial es la principal fuente de creación de valor del país. El bajo coste de la mano de obra (un dólar a la hora, frente a los 23 dólares de Estados Unidos y los 25 europeos) y la extensa jornada laboral (trabajan una media de 1.960 horas al año, frente a las 1.890 horas estadounidenses y las 1.730 europeas) convierten a China en la fábrica del mundo.

Las empresas occidentales prefieren concentrarse en el diseño y encargar la producción de sus artículos a plantas asiáticas. “Hoy no se puede sobrevivir sin estar donde se produce más barato”, señala el director comercial de la firma valenciana Falomir, que trabaja con más de una veintena de empresas chinas.

Por poner un ejemplo, el año pasado 3.000 empresas de capital local produjeron el 90% de los grifos que decoran los hogares occidentales, y ocho de cada diez juguetes que se fabrican en el mundo llevan impreso el *made in China*.

[www.Expansion.com/Adaptado](http://www.Expansion.com/Adaptado)

Proyecto la Casa del Saber. Zubia-Santillana

## **CUESTIONES:**

1. Escribe un título para el artículo.
  
2. Indica cuál es la idea principal del texto.
  
3. Explica el significado que en el texto tienen los términos:
  - Jornada laboral
  - Fábrica del mundo
  - Economías desarrolladas
  - Coste de la mano de obra
  
4. Opina de forma argumentada sobre la problemática que se plantea en el texto.



**Tercer parte: Mundo Laboral**  
**Cada pregunta vale 0,5 p.**  
**Puntuación Total: 2,5 p.**

1. Explica brevemente la diferencia entre “reconversión industrial” y “deslocalización”.

2. Define brevemente qué es un “sindicato”.

3. ¿Qué significa buscar “empleo en la red”?

4. Qué significa la siguiente señal de seguridad:



5. Ante un accidente laboral, qué significan las siglas PAS.