



GRADUADO EN EDUCACIÓN SECUNDARIA

PRUEBA LIBRE

ÁMBITO SOCIAL

NOVIEMBRE 2017

APELLIDOS Y NOMBRE: _____

FIRMA:

Primera parte

Cada pregunta vale 0,25 p.

Puntuación total: 4,5 p.

1. ¿Qué tipo de paisaje es el que aparece en la imagen?

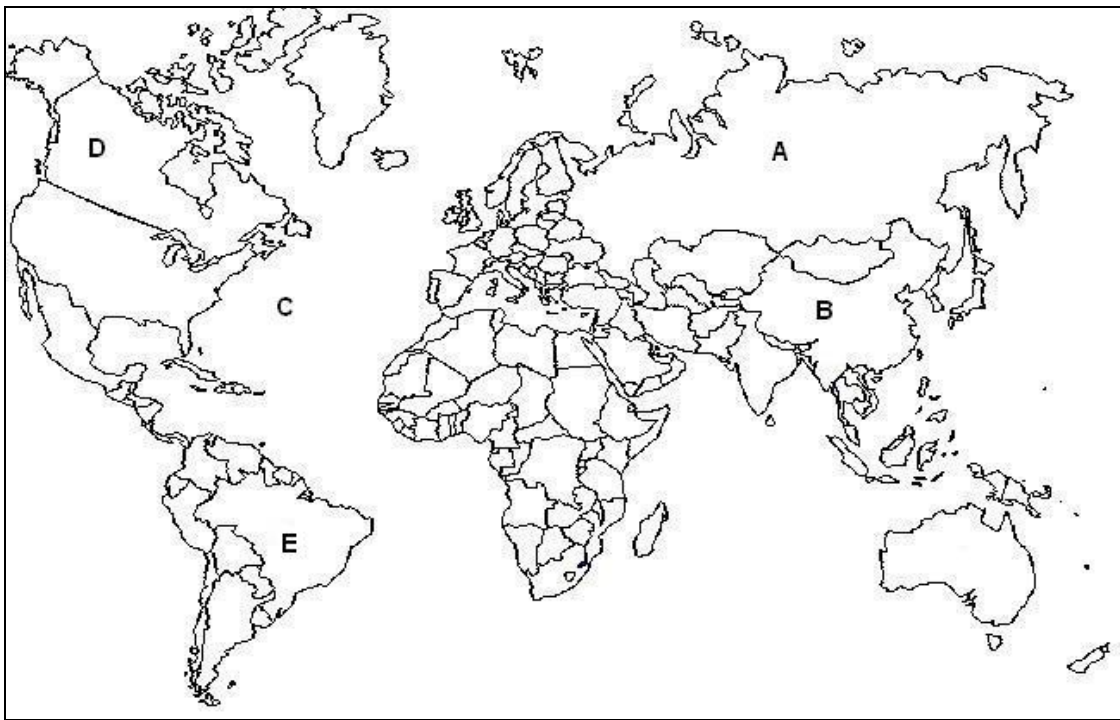


2. Cita DOS elementos característicos de una ferrería tradicional vasca.



--

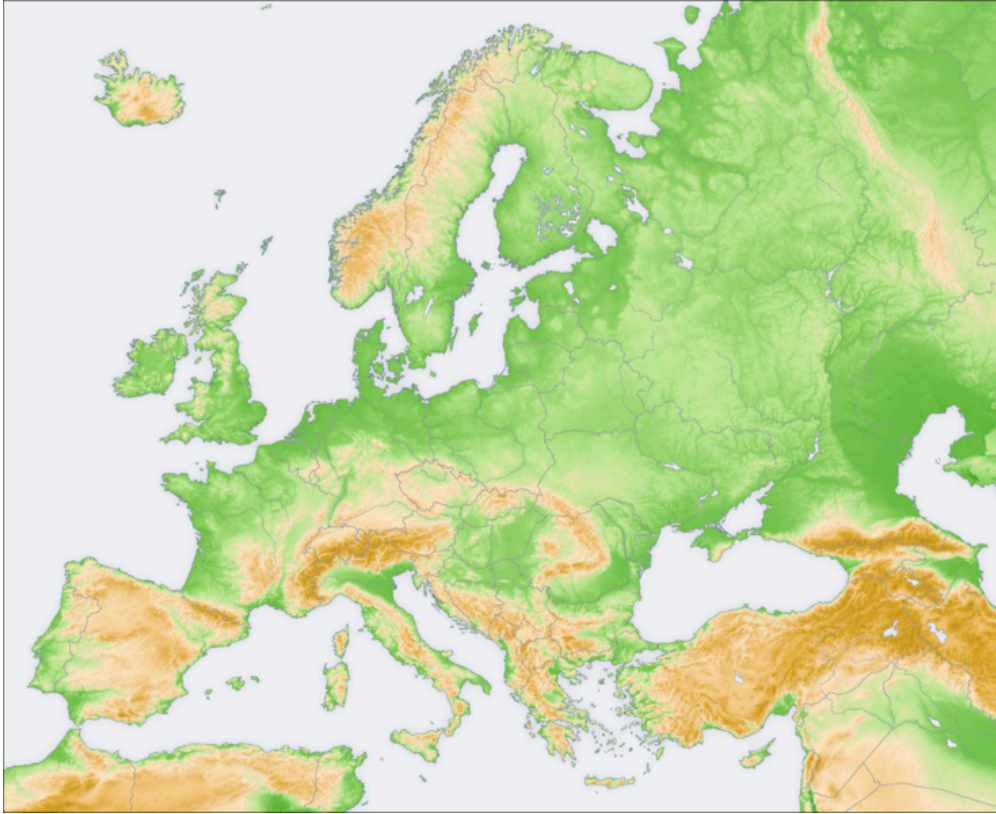
3. Identifica los lugares indicados en el mapa con las letras A, B, C, D y E:



A	
B	
C	
D	
E	

4. Sitúa en el mapa estos accidentes geográficos:

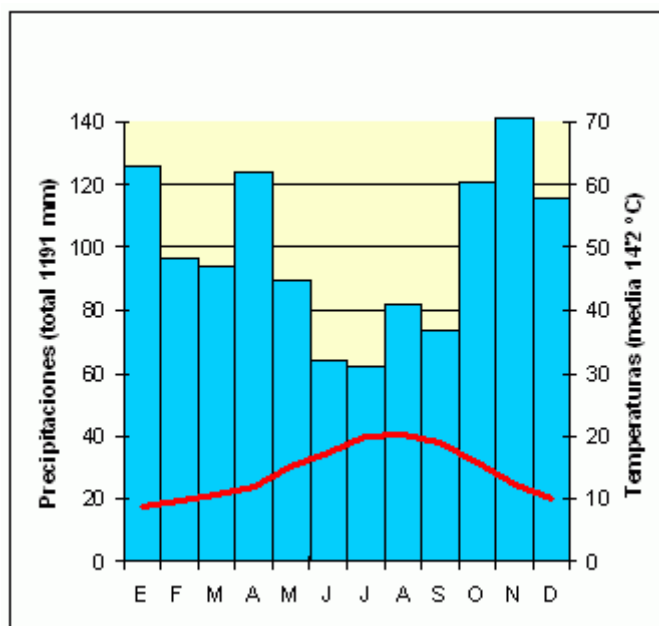
- Urales
- Mar Negro
- Cárpatos
- Apeninos
- Ródano



5. ¿Cuál es la parte de un río que aparece en la imagen?



6. ¿A qué tipo de clima corresponde este climograma?



7. Sitúa en el mapa de Euskadi los siguientes ríos:

- Baias
- Ibaizabal
- Zadorra
- Urola
- Bidasoa



8. Ordena cronológicamente estos datos históricos en la columna derecha.

Estados Unidos inicia la Guerra contra Iraq.	
Asesinato del Presidente Kennedy	
La URSS invade Afganistán	
Finaliza la Guerra Civil española.	
Inicio de la guerra de Corea.	
Entrevista entre Franco y Hitler en Hendaya.	

9. Escribe un título adecuado para el contenido representado en este mapa.



10. Relaciona los siguientes datos de la historia del País Vasco...

1	Fuero Viejo de Bizkaia		Revolución popular en Bizkaia
2	Altos Hornos de Bolueta		Guerra Civil en Euskadi
3	Cinturón de hierro		Sabino Arana
4	Discurso de Larrazábal		Derecho consuetudinario
6	Rebelión de la sal		Guerra Civil en Euskadi
7	Estatuto de Estella		Sociedad de Estudios Vascos
9	"Guernica" de Picasso		Fuero de Logroño
10	Fundación de Villas		Industrialización

11. En la Revolución cubana se produjo:

- a) Trotsky llega al poder en Cuba
- b) Caída de la dictadura de Fulgencio Batista
- c) Estados Unidos bombardea La Habana
- d) España declara la guerra a Cuba

12. Ordena cronológicamente las siguientes épocas históricas y/o hechos históricos...

Neolítico	
Revolución rusa	
Paleolítico	
Revolución francesa	
Dictadura de Primo de Rivera	
Transición política en España	

13. Define brevemente el término "Plan Quinquenal"

14. Escribe un título adecuado para esta imagen...



Eibar, 1931

15. Relaciona personajes y sucesos históricos...

1	La reina Victoria de Reino Unido		Triunfo en la batalla de Verdún
2	Pétain		Creación de la Liga Espartaquista
3	Lenin		Proclamada emperatriz de India
4	Rosa Luxemburgo		Creación del Ejército Rojo
5	Trotsky		Triunfo de la Revolución bolchevique

16. Explica brevemente el mensaje de esta imagen...



17. Cita DOS organismos de la Organización de Naciones Unidas...

18. ¿Cuál es el tema de esta pintura?



Segunda parte
Lee el siguiente texto y responde a las preguntas.
Puntuación Total 3 p.



El problema de la brecha digital tiene una perspectiva tecnológica, pero también social, cultural y económica, porque todas ellas van entrelazadas entre sí, en mayor o menor medida.

La brecha tecnológica supone no poder acceder o no poder o saber utilizar la tecnología. Esta primera exclusión puede deberse a tres razones: por no contar con los medios técnicos y económicos necesarios; por no saber qué hacer con la tecnología, qué provecho sacarle; y por no tener interés alguno en la tecnología.

La brecha económica es bien clara; si no tienes dinero para adquirir un PC, para tener una conexión a internet..., no puedes tener acceso a las oportunidades de las TIC. [...]

La brecha social se refiere al hecho de que según qué estrato social ocupes, tendrás una mayor o menor probabilidad de tener acceso a las TIC. [...]

Por último, está la brecha educativo-cultural que se refleja en el hecho de, por un lado, estar o no familiarizado con las TIC, su uso, sus capacidades, etc., y por otro, con el hecho de que los contenidos de la Red se encuentren mayoritariamente en un solo idioma, pudiendo provocar una situación de “colonialismo lingüístico”.

*F.J. García Gómez, en **Pez de plata***

Proyecto la Casa del Saber. Zubia-Santillana

CUESTIONES:

1. Escribe un título para el texto.

2. Indica cuál es la idea principal del texto.

3. Explica el significado que en el texto tienen los términos:
 - Brecha digital

 - Estrato social

 - Brecha social

 - TIC

4. Opina de forma argumentada sobre la problemática que se plantea en el texto.

Tercer parte: Mundo Laboral
Cada pregunta vale 0,5 p.
Puntuación Total: 2,5 p.

1. Define brevemente el término “economía colaborativa”.

2. Define brevemente el procedimiento denominado “arbitraje laboral”

3. ¿Qué significan las siglas CEPYME?

4. Define brevemente el término “PIB”...

5. Define brevemente el término “Permisos retribuidos”