



GRADUADO EN EDUCACIÓN SECUNDARIA

PRUEBA LIBRE

ÁMBITO SOCIAL

NOVIEMBRE 2020

APELLIDOS Y NOMBRE: _____

FIRMA:

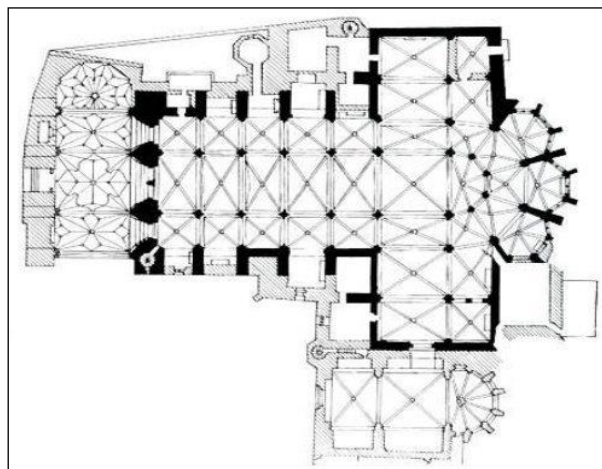
Primera parte
Cada pregunta vale 0,25 p.
Puntuación total: 4,5 p.

1. Ordena cronológicamente las siguientes civilizaciones.

Egipto	
Roma	
Mesopotamia	
Grecia	

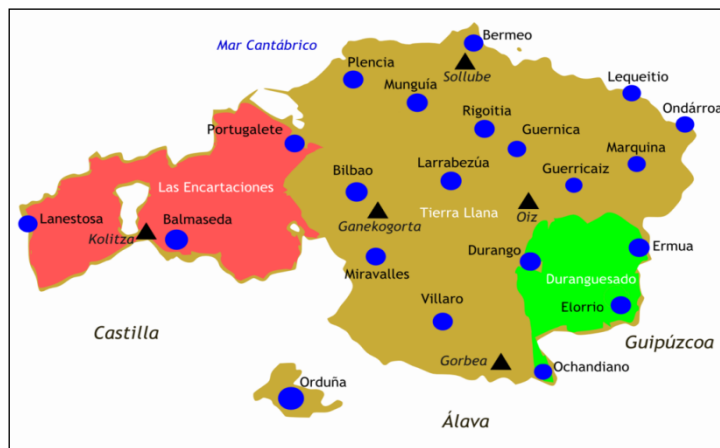
2. Define los términos: menhir, dolmen y crómlech.

3. ¿A qué tipo de planta pertenece la de esta catedral? (En la imagen)

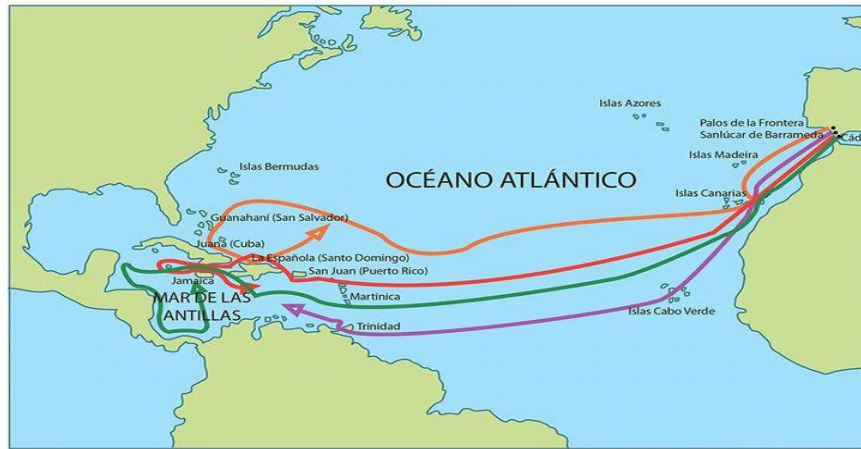


4. Define el término: "Tercera revolución industrial"

5. ¿Cuáles fueron las primeras villas fundadas en el Señorío de Bizkaia?



6. A qué expediciones marítimas pertenecen este mapa.



7. Calcula la densidad de población de Alemania. Su extensión es de 357.021 km² y su población es de 82.369.548. habitantes. ¿Qué operación matemática hay que realizar?

8. Indica tres causas que originan la emigración.

9. Rodea en el mapamundi con un círculo, los siguientes lugares:

- Irlanda

- Madagascar
- Portugal
- Cuba
- India




10. ¿Explica brevemente cuál es la finalidad del Objetivo de Desarrollo Sostenible nº 4?



.

11. Define brevemente el término "Globalización"

12. ¿Qué hecho histórico recoge la siguiente imagen?



13. ¿A qué época histórica pertenecen los restos arqueológicos que aparecen en la imagen?



14.- Marca con una "X" si la afirmación es Verdadera o Falsa.

	V	F
Las luchas banderizas en el País Vasco se produjeron en el siglo XX.		
El Homo Antecesor fue el primer habitante de las tierras vascas.		
La calidad del hierro vasco favoreció su exportación.		
La revolución industrial en el País Vasco se inició en el siglo XII		

15. Identifica de izquierda a derecha los siguientes Lehendakaris del Gobierno Vasco.



16. Indica a qué Comunidad Autónoma se corresponden los siguientes números:

- 8.
- 3.
- 6.
- 10.



17. Relaciona entre sí los siguientes datos de la Historia del País Vasco, que aparecen en ambas columnas:

1	Fuero Viejo de Bizkaia		Industrialización en el País Vasco.
2	Primera Asociación socialista en el País Vasco		Guerra Civil en Euskadi
3	Primeros Altos Hornos para hierro en Bolueta		Sabino Arana
4	Cinturón de hierro		Abrazo de Bergara
5	Discurso de Larrazábal		Derecho consuetudinario
6	Guerras carlistas		Facundo Perezagua

18. Señala si las siguientes frases son verdaderas (V) o falsas (F):

El Ararteko tiene la función de presidir el Gobierno Vasco en ausencia del Lehendakari.	
El Lehendakari elige a los consejeros-as de su gobierno.	
El Lehendakari es elegido por los parlamentarios-as del Parlamento Vasco.	



Los alcaldes de los municipios de la Comunidad Autónoma del País Vasco eligen al Lehendakari.	
Los miembros del Parlamento Vasco son elegidos cada cuatro años por medio de unas Elecciones Generales.	

Segunda parte
Lee el siguiente texto y responde a las preguntas.
Puntuación Total 3 puntos.



Millones de cámaras y un carnet por puntos distinguirán al buen ciudadano del malo. Se calcula que en China hay 180 millones de cámaras que vigilan a sus ciudadanos-as.

El Gobierno chino ha empezado a poner en marcha las primeras fases de su carnet por puntos de buen ciudadano. Desde el pasado 1 de mayo, a las personas que hayan cometido o cometan actos como difundir información falsa sobre terrorismo, causado problemas en vuelos, usado billetes de transporte caducados o fumado en trenes – según dos comunicados publicados el viernes en el sitio web de la Comisión Nacional de Desarrollo y Reforma– se les prohibirá usar trenes y aviones durante un año.

Estas medidas son sólo el primer paso del plan del presidente Xi Jinping para construir un sistema de puntuación de buenos y malos ciudadanos a gran escala, basado en los hábitos sociales, de consumo, amistades y cumplimiento de los deberes económicos. La intención es que este sistema esté plenamente implementado en el 2020.

A partir de esa fecha, las puntuaciones influirán en la capacidad para alquilar una vivienda, obtener un seguro o un préstamo e incluso beneficios de la sanidad pública. Los ciudadanos con puntuaciones bajas tampoco serán contratados para determinados empleos y tendrán restringida la matrícula de sus hijos en escuelas privadas. Tal y como establecen los planes del Gobierno chino, este sistema de crédito social “permitirá que las personas de confianza vayan por todas partes bajo el cielo y dificultará que los desacreditados den un solo paso”. Del mismo modo, las personas con mala nota tendrán velocidades de internet más lentas, acceso restringido a lugares de ocio y la eliminación del derecho a viajar libremente, que es lo que ahora ya se aplica.

También se verán afectados por las restricciones que entraron en vigor el 1 de mayo aquellos que hayan cometido infracciones financieras, como los empresarios que no paguen el seguro social de sus trabajadores, las personas que no abonen las multas y también las que ofrezcan disculpas poco sinceras.

Y en un paso más, en septiembre del 2016, la Oficina General del Consejo de Estado estableció el principio básico del crédito social: “Si la confianza se rompe en un lugar, las restricciones se imponen en todas partes”.

Por poner un ejemplo, Sesame Credit –propiedad de Alibaba– otorga una puntuación a sus clientes en función de cinco criterios: si pagan sus facturas a tiempo, si cumplen con sus obligaciones financieras, características personales, sus hábitos de consumo y las relaciones interpersonales. A aquellos que obtienen 600 puntos, Sesame Credit les da acceso a préstamos para comprar en Alibaba; si se alcanzan los 650 puntos se puede alquilar un coche sin dejar depósito; 700 puntos dan derecho a poder viajar a Singapur sin tener que aportar determinados documentos, y los que obtienen 750 puntos pueden obtener con más rapidez un visado para viajar a Europa.

Albert Molins Renter. Barcelona. 03/05/2018. (adaptado).

CUESTIONES: (Respuestas libres)

1. Escribe un título para el artículo.
2. Indica cuál es la idea principal del texto.



3. Opina de forma argumentada sobre la siguiente frase que aparece en el texto:
"Si la confianza se rompe en un lugar, las restricciones se imponen en todas partes".
4. Lee atentamente el artículo y opina de forma argumentada sobre la información que aparece en el mismo.

Tercer parte: Mundo Laboral
Cada pregunta vale 0,5 p.
Puntuación Total: 2,5 p.

1. Explica brevemente el significado del término "accidente de trabajo"

2. Define brevemente el término "trabajador-a autónomo-a"

3. ¿Qué significa el término "contrato"?

4. Qué significa el término "teletrabajo".

5. Define el término "currículum"