



# **GRADUADO EN EDUCACIÓN SECUNDARIA**

## **PRUEBA LIBRE**

### **ÁMBITO SOCIAL**

**NOVIEMBRE 2019**

**APELLIDOS Y NOMBRE:** \_\_\_\_\_

**FIRMA:**

**Primera parte**  
**Cada pregunta vale 0,25 p.**  
**Puntuación total: 4,5 p.**

1. Define el significado de las siglas FMI.

2. Qué tipo de plano de ciudad es el que aparece en la imagen.



3. Define brevemente qué significa el concepto "inmunidad diplomática"

4. Cita cuatro instituciones u organismos de la Unión Europea.

5. Rodea en el mapamundi con un círculo, los siguientes lugares:

- Australia
- India
- Japón
- Cuba
- Irlanda




6. ¿A qué objetivos responde el siguiente cartel?




7. Explica brevemente el significado del siguiente artículo de la Declaración Universal de los Derechos Humanos

Art 21.

1. Toda persona tiene derecho a participar en el gobierno de su país, directamente o por medio de representantes libremente escogidos.
2. Toda persona tiene el derecho de acceso, en condiciones de igualdad, a las funciones públicas de su país.
3. La voluntad del pueblo es la base de la autoridad del poder público; esta voluntad se expresará mediante elecciones auténticas que habrán de celebrarse periódicamente, por sufragio universal e igual y por voto secreto u otro procedimiento equivalente que garantice la libertad del voto.



8. Dentro del Concierto Económico del País Vasco con el Estado, qué significado tiene el concepto de "cupo".



9. Ordena cronológicamente estos datos históricos en la columna derecha.

Guerra Irán-Iraq	
Muerte de Stalin	
Puesta en marcha del Plan Marshall	
Declaración Universal de los Derechos Humanos	
Primavera de Praga	

10. ¿Qué hecho histórico recoge la siguiente imagen?



--

11. ¿A qué época prehistórica pertenecen los restos arqueológicos que aparecen en la imagen?



--

12.- Marca con una "X" si la afirmación es Verdadera o Falsa.

	V	F
Las luchas banderizas en el País Vasco se produjeron en el siglo XX.	<input type="checkbox"/>	<input type="checkbox"/>
El Homo Antecesor fue el primer habitante de las tierras vascas.	<input type="checkbox"/>	<input type="checkbox"/>
La calidad del hierro vasco favoreció su exportación.	<input type="checkbox"/>	<input type="checkbox"/>
La revolución industrial en el País Vasco se inició en el siglo XII.	<input type="checkbox"/>	<input type="checkbox"/>

13. Comenta brevemente el significado histórico de este cuadro.



14. Indica a qué Comunidad Autónoma se corresponden cada uno de los siguientes números:

- 8
- 11
- 10
- 17





15. Cita DOS países pertenecientes a cada uno de estos bandos (Potencias centrales y Aliados) enfrentados durante la Primera Guerra Mundial.

Potencias centrales	Aliados

16. Relaciona personajes y sucesos históricos...

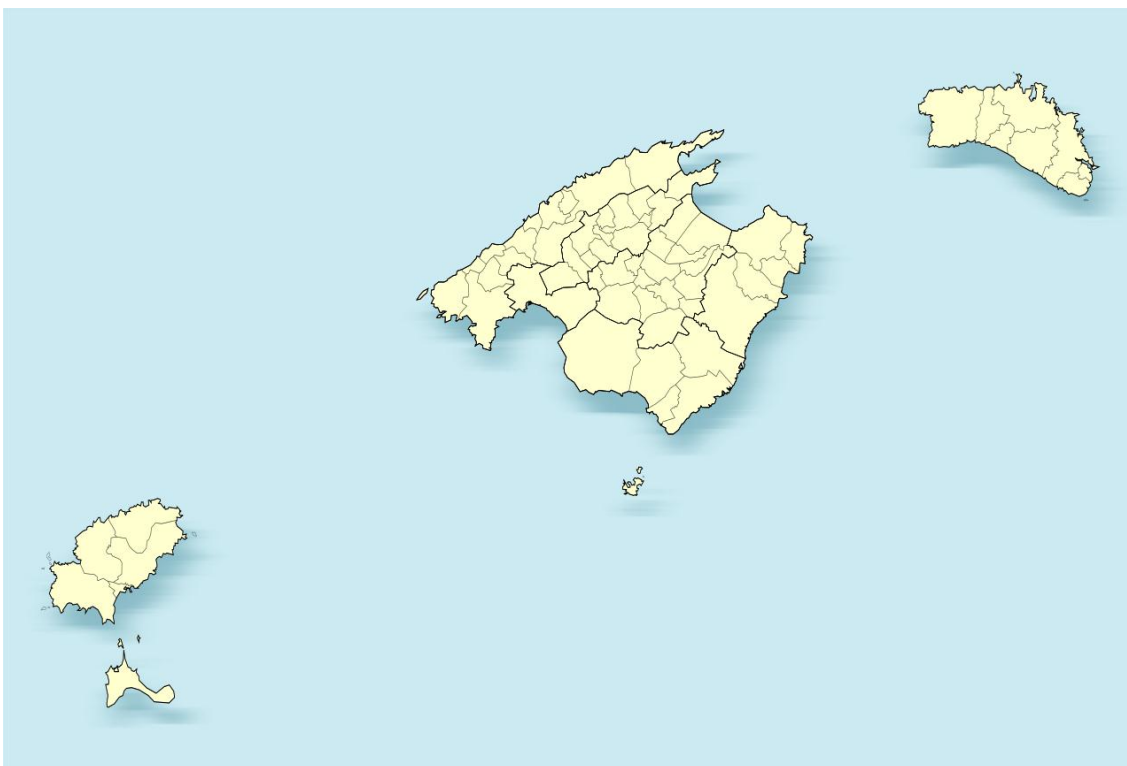
1	Charles de Gaulle		Convocó el Concilio Vaticano II
2	M. Gandhi		Organizador del genocidio judío
3	H. Himmler		Creó la Liga Espartaquista
4	Juan XXIII		Promotor de la No violencia.
5	Rosa Luxemburgo		Presidente de la República francesa

17. ¿A qué género y movimiento artístico pertenece la siguiente obra?




--

18.- Indica el nombre de cada una de las islas que aparecen en el mapa:



**Segunda parte**  
**Lee el siguiente texto y responde a las cuestiones.**  
**Puntuación Total 3 p.**



La humanidad está en peligro. Ni en los momentos más alarmantes de la **Guerra Fría** el mundo estuvo más cerca del abismo. Es lo que asegura el Boletín de Científicos Atómicos, un grupo de expertos creado para avisar a la humanidad del riesgo de **autoexterminarse**. Para ello crearon un reloj simbólico, el Reloj del Apocalipsis, que muestra los minutos que nos quedan hasta la medianoche, es decir, el fin del mundo. El año pasado colocaron las manecillas a las 23:58, por lo que estábamos a dos minutos del fin. Y nada ha mejorado desde entonces, al contrario, por lo que se mantiene exactamente igual. Jamás en sus 72 años de historia el minuterero estuvo más próximo a la medianoche: en 1953, en plenas pruebas de armamento termonuclear soviéticas y estadounidenses, también estaba a dos minutos. Si el 99,9% de todas las especies que han existido en la Tierra se han extinguido, parece lógico pensar que ese sea el futuro inevitable de la humanidad. Porque como dijo Carl Sagan: "**La regla es la extinción. La supervivencia es la excepción**".

Calentamiento, inestabilidad política, riesgo de guerra nuclear, desinformación... La humanidad está viviendo una "tormenta perfecta".

En el diagnóstico del grupo, del que forman parte 15 premios Nobel, comienza hablándose de dos amenazas principales, el cambio global y las armas atómicas: "Se vieron agravadas el año pasado por el uso creciente de la guerra de información para socavar la democracia en todo el mundo, ampliando el riesgo de estas y otras amenazas y poniendo el futuro de la civilización en un peligro extraordinario".

Estos miedos eran inimaginables hasta mediados del siglo XX, cuando las grandes superpotencias empezaron a jugar con fuego. Fue entonces cuando se creó el Boletín de Científicos Atómicos para avisar a la humanidad del riesgo de autoexterminarse. En los plácidos años de la década de 1990 llegó a estar a 17 minutos de las 0.00 horas, pero desde 2011 no ha dejado de aproximarse a la medianoche. Las 23:55 en 2014, las 23:57 en 2015, las 23:57 y 30 segundos en 2017... Hasta 1947, cuando se creó este organismo, la humanidad no tenía forma de autodestruirse por completo.

En estos momentos, son cuatro los principales peligros que nos amenazan y que tienen detrás a los humanos: una catástrofe nuclear, el cambio climático, la biotecnología y la inteligencia artificial. Los riesgos de conflictos con armamento atómico y del calentamiento global han quedado detallados en el diagnóstico del Reloj del Apocalipsis: "Líderes impetuosos, disputas diplomáticas intensas e inestabilidades regionales se combinan para crear un contexto internacional en el que los peligros nucleares son demasiado reales".

*JAVIER SALAS, 2019*

## CUESTIONES:

1. Escribe un título para el artículo.
2. Indica cuál es la idea principal del texto.
3. Explica el significado que en el texto tienen los términos:
  - Guerra Fría
  - Autoexterminarse
4. Opina de forma argumentada sobre la siguiente frase que aparece en el texto:
  - Carl Sagan: "La regla es la extinción. La supervivencia es la excepción"

**Tercer parte: Mundo Laboral**  
**Cada pregunta vale 0,5 p.**  
**Puntuación Total: 2,5 p.**

1. Explica brevemente el significado del término "trabajador-a autónomo".

2. Define brevemente el término "población inactiva".

3. ¿Qué significa el término "economía sumergida"?

4. Qué significa el término "teletrabajo"

5. Define el término "producción tecnificada".