



GRADUADO EN EDUCACIÓN SECUNDARIA

PRUEBA LIBRE

ÁMBITO SOCIAL

NOVIEMBRE 2015

APELLIDOS Y NOMBRE: _____

FIRMA:

Primera parte

Cada pregunta vale 0,25 p.

Puntuación total: 4,5 p.

1. Explica brevemente las características del paisaje que aparece en la imagen. ¿En qué zona geográfica lo situarías?



2. Relaciona entre sí los siguientes datos de la historia del País Vasco, que aparecen en ambas columnas:

1	Fuero Viejo de Bizkaia		Industrialización en el País Vasco.
2	Primera Asociación socialista en el País Vasco		Guerra Civil en Euskadi
3	Primeros Altos Hornos para hierro en Bolueta		Sabino Arana
4	Cinturón de hierro		Abrazo de Bergara

5	Discurso de Larrazábal		Derecho consuetudinario
6	Guerras carlistas		Facundo Perezagua

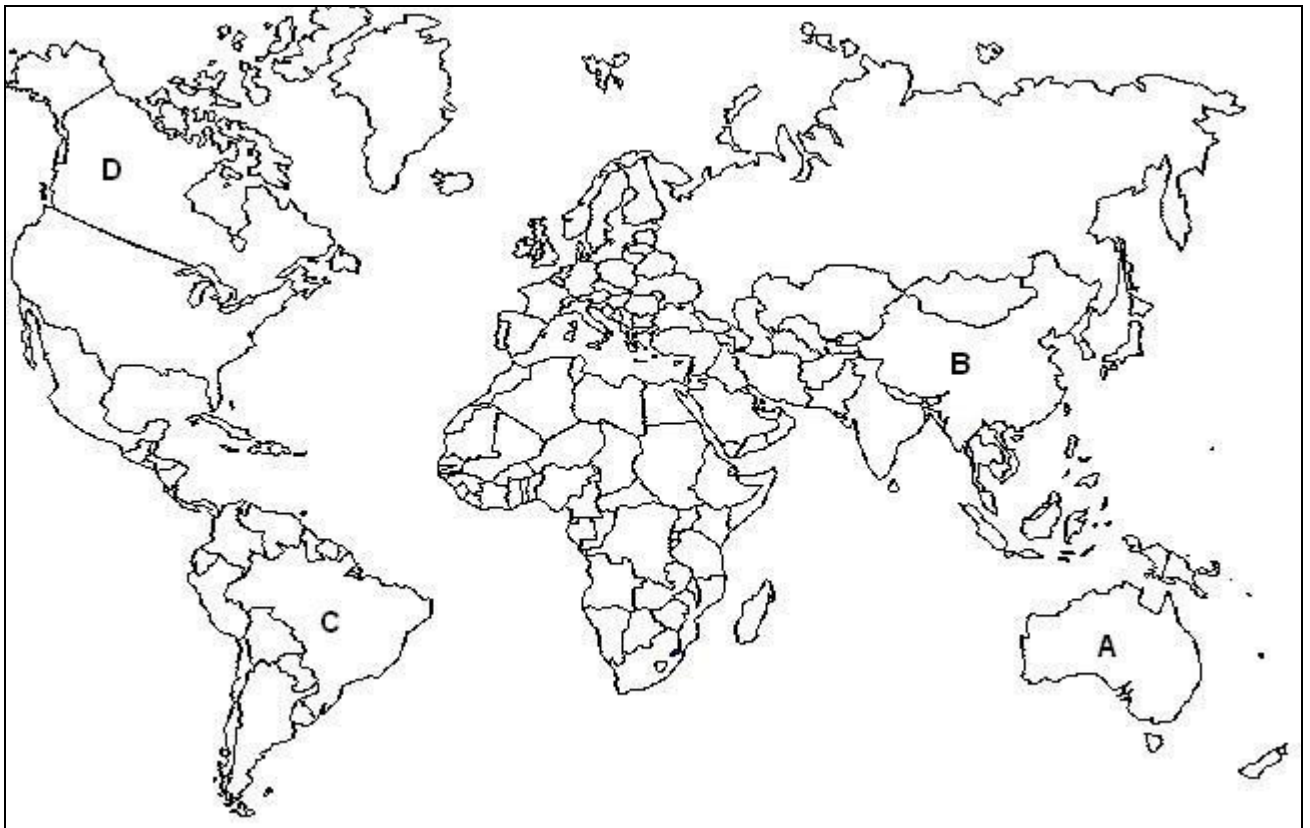
3. Explica brevemente el significado del término “huella ecológica”.



4. Observa el mapa, e indica a ¿qué situación histórica corresponde?



5. Identifica los siguientes países, indicados en el mapa con las letras A, B, C y D:



A	
B	
C	
D	

6. Sitúa en el mapa los siguientes accidentes geográficos:

- Pirineos
- Cordillera Cantábrica
- Sistema Central
- Sistema Ibérico



7. Sitúa en el mapa los siguientes ríos:

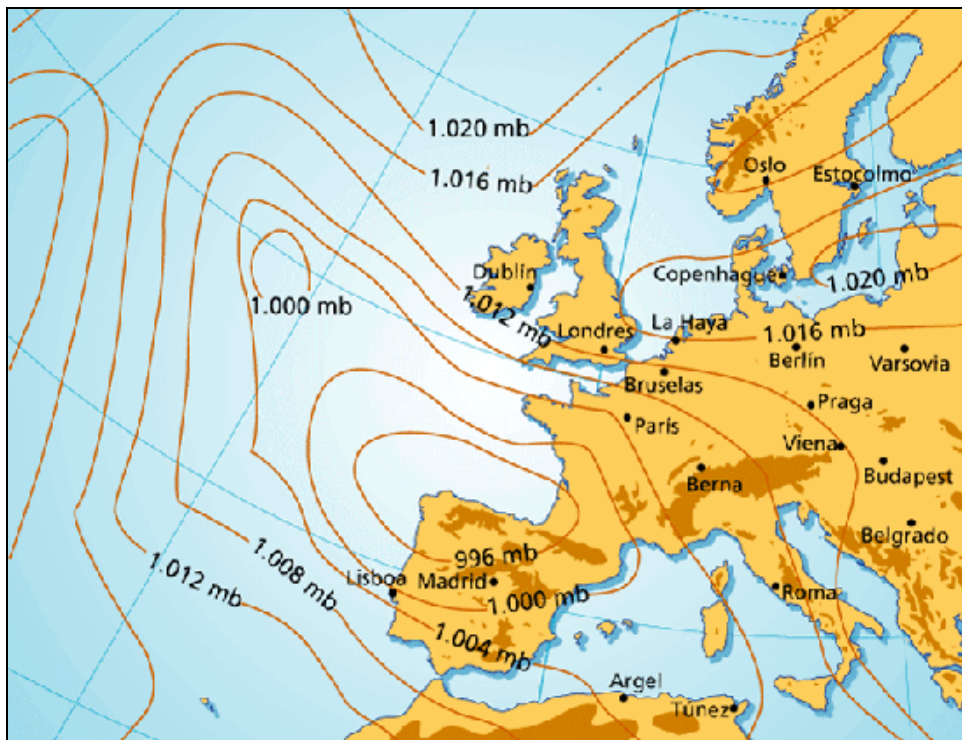
- Urumea
- Oka
- Urola
- Lea



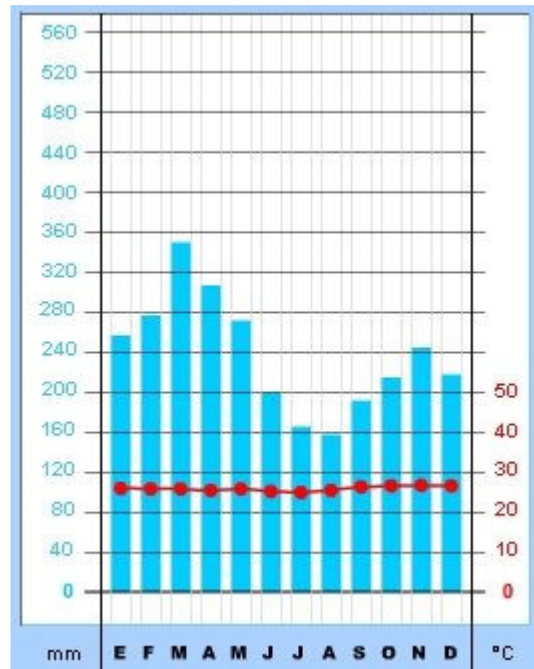
8. Ordena cronológicamente, en la columna derecha, los siguientes datos históricos (del 1 al 10).

Guerra de las Malvinas entre Argentina y Gran Bretaña	
Fin de la Guerra Civil española	
España entrega el Sahara a Marruecos y Mauritania	
Invasión de Checoslovaquia por las tropas del Pacto de Varsovia	
Atentado a las Torres gemelas en Nueva York	
Caída del Muro de Berlín	
Desaparición de la URSS	
Revolución de los claveles en Portugal	
Muere J. Stalin	
Constitución de Cádiz	

9. ¿Qué concepto representa este mapa? Defínelo brevemente.



10. Indica las características de la temperatura y de la pluviosidad del siguiente climograma. ¿A qué tipo de clima corresponde?



11. Define brevemente el término “Plan Quinquenal”

12. Observa y comenta la siguiente imagen. ¿Conoces su título, autor, o a qué estilo artístico pertenece? Expresa tu opinión sobre el tema que su autor desarrolla en la misma.



13. Indica de qué accidente geográfico se trata y en qué continente se sitúa, siguiendo el primer ejemplo.

Ebro	Río	Europa
Sahara		
Volga		
Rocosas		
Himalaya		
Titicaca		

14. Señala si las siguientes frases son verdaderas (V) o falsas (F):

El Ararteko tiene la función de presidir el Gobierno Vasco en ausencia del Lehendakari.	
El Lehendakari elige a los consejeros-as de su gobierno.	
El Lehendakari es elegido por los parlamentarios-as del Parlamento Vasco.	
Los alcaldes de los municipios de la Comunidad Autónoma del País Vasco eligen al Lehendakari.	
Los miembros del Parlamento Vasco son elegidos cada cuatro años por medio de unas Elecciones Generales.	

15. Relaciona los términos y conceptos sobre la historia mundial de ambas columnas, poniendo el número correspondiente.

1	La "Paz Armada"		Gran Depresión
2	Revolución rusa		Kruschev/Kennedy
3	New Deal		Willy Brandt
4	Fascismo italiano		Franklin D. Roosevelt
5	Conferencia de Postdam		Hitler/Stalin
6	Crisis de los misiles cubanos		Otto von Bismarck
	Crack de 1929		Stalin, Truman y Churchill
	Pacto de no agresión germano-soviético		Lenin
	"Ospolitik"		Benito Mussolini

16. Explica brevemente el significado del artículo 14 de la Declaración Universal de Derechos Humanos, que dice:

Artículo 14

En caso de persecución, toda persona tiene derecho a buscar asilo, y a disfrutar de él, en cualquier país.

Este derecho no podrá ser invocado contra una acción judicial realmente originada por delitos comunes o por actos opuestos a los propósitos y principios de las Naciones Unidas.

--

17. Define el término “Democracia indirecta” y cita algún ejemplo

--

18. Relaciona los términos y conceptos sobre Instituciones de carácter internacional de ambas columnas, poniendo el número correspondiente.

1	OMC		Organización para la Cooperación y el Desarrollo Económico
2	FAO		Fondo de las Naciones Unidas para la Infancia
3	OCDE		Organización Internacional del Trabajo
4	UNICEF		Organización de las Naciones Unidas para la Alimentación y la Agricultura
5	OIT		Organización Mundial del Comercio

Segunda parte

Lee el siguiente texto y responde a las preguntas.

Puntuación Total 3 p.

Miles de plataformas electrónicas de intercambio de productos y servicios se expanden a toda velocidad en un abierto desafío a las empresas tradicionales.

Compartir en vez de poseer. La economía colaborativa o consumo colaborativo quiere cambiar el mundo. Plantea una revolución abrazada a las nuevas tecnologías.

Quienes participan a título personal en este sistema basado en intercambiar y compartir bienes y servicios a través de plataformas electrónicas se embolsan, según la revista Forbes, más de 3.500 millones de dólares (2.580 millones de euros).

De hecho, la Red está llena de ejemplos que cuentan ese éxito. Sabrina Hernández, una estudiante de la Universidad de San Francisco, cobra 40 dólares (30 euros) la noche, a través del sitio DogVacay, por cuidar perros en su casa. Mientras que Dylan Rogers, un vendedor de coches de Chicago, recauda 1.000 dólares mensuales alquilando su BMW Serie 6 usado en RelayRides.

Desde la noche de los tiempos, el sentido de posesión ha sido inherente al ser humano; sin embargo, algo empieza a cambiar. “Hemos pasado de un mundo en el que sobra de todo a otro en la que la mayoría no puede disfrutar de lo que este siglo ofrece a menos que sea compartiéndolo”, apunta el inversor en nuevos negocios Rodolfo Carpentier.

Carlos Blanco, un conocido emprendedor español, cree que esta forma diferente de consumir es “una consecuencia de la digitalización, pero también una réplica frente a los abusos en los precios, el mal servicio y la pésima regulación”. Es un caballo de Troya dentro de un sistema que fomenta que en el planeta haya objetos valorados en 533.000 millones de dólares que no se utilizan.

Para algunos, **el consumo colaborativo es una respuesta a la inequidad y la ineficiencia del mundo.** Lo cuentan los números. El 40% de los alimentos del planeta se desperdicia; los coches particulares pasan el 95% de su tiempo parados; en Estados Unidos hay 80 millones de taladradoras cuyos dueños solo las usan 13 minutos de media, y un motorista inglés malgasta 2.549 horas de su vida circulando por las calles en busca de aparcamiento. ¿Podemos consentir ese desperdicio? ¿Hacen falta tantos coches? ¿Necesitamos esas taladradoras o perder ese tiempo? Al fondo, la Tierra alcanzará 9.000 millones de habitantes en 2050. Y habrá que alimentarlos, en un tiempo donde el paro será una pandemia. Hay algo de apocalíptico si juntamos todas estas ideas, pero también de hartazgo.

Este nuevo consumo tiene mucho de maltusiano. Se multiplica a tal velocidad que ya hay 5.000 empresas compitiendo con las tradicionales.

Consciente de que, una vez abierta la caja de Pandora, las repercusiones son profundas, la Unión Europea redactó en enero pasado un dictamen de iniciativa para entender estos vientos. “El consumo colaborativo representa la complementación

ventajosa desde el punto de vista innovador, económico y ecológico de la economía basada únicamente en la producción y venta de sus productos. Además supone una solución a la crisis económica y financiera en la medida que posibilita el intercambio en casos de necesidad". ¿Demasiadas expectativas?

El País, 2014. Miguel A. García Vega. (Adaptado)

CUESTIONES:

1. Indica cuál o cuáles son las ideas principales del texto.

2. Explica el significado que en el texto tienen:
 - Compartir en vez de poseer.

 - el consumo colaborativo es una respuesta a la inequidad y la ineficiencia del mundo

 - Este nuevo consumo tiene mucho de maltusiano.

3. Opina de forma argumentada sobre la problemática que se plantea en el texto.

4. Qué título pondrías a este artículo y por qué.

Tercer parte: Mundo Laboral

Cada pregunta vale 0,5 p.

Puntuación Total: 2,5 p.

1. Define brevemente qué se entiende por salario mínimo interprofesional (SMI).

2. Relaciona ambas columnas, poniendo el número correspondiente.

1	SA		Agrupación de Productores Agrarios
2	SL		Sociedad Cooperativa
3	SCom		Sociedad Anónima
4	SAL		Sociedad de trabajo en la que el número mínimo de socios es de dos.
5	SCoop		Sociedad Anónima Laboral
6	APAS		Sociedad Comanditaria
7	Sociedad colectiva		Sociedad Limitada

3. Explica brevemente qué tipo de relación, entre dos empresas, caracteriza a una "franquicia".

4. Comenta la siguiente imagen desde el punto de vista de la seguridad laboral del trabajador-a.



5. Una empresa establece un nuevo sistema de control de la productividad mediante videocámaras, sin informar a los representantes de los-as trabajadores-as de la empresa. ¿Crees que la empresa vulnera algún derecho del trabajador-a?