



GRADUADO EN EDUCACIÓN SECUNDARIA

PRUEBA LIBRE

ÁMBITO SOCIAL

MAYO 2014

APELLIDOS Y NOMBRE: _____

FIRMA:

Primera parte

Cada pregunta vale 0,25 p.

Puntuación total: 4,5 p.

1. Dibuja y sitúa en el mapa los siguientes ríos de Euskadi:

- Ibaizabal
- Baias
- Oka
- Oria



2. Relaciona entre sí los siguientes datos de la historia del País Vasco, que aparecen en ambas columnas:

1	Real Seminario de Bergara		Legión Cóndor
2	Gobierno Vasco en el exilio		Cupo concertado
3	Bombardeo sobre Gernika		Hermanos Elhuyar
4	Concierto Económico		José Antonio Aguirre


3. Explica el significado de ésta imagen.



4. Observa el mapa, e indica a ¿qué situación histórica corresponde?



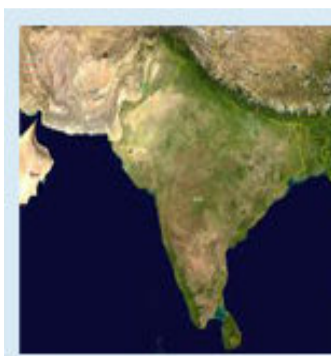
5. Identifica las siguientes imágenes



A



B

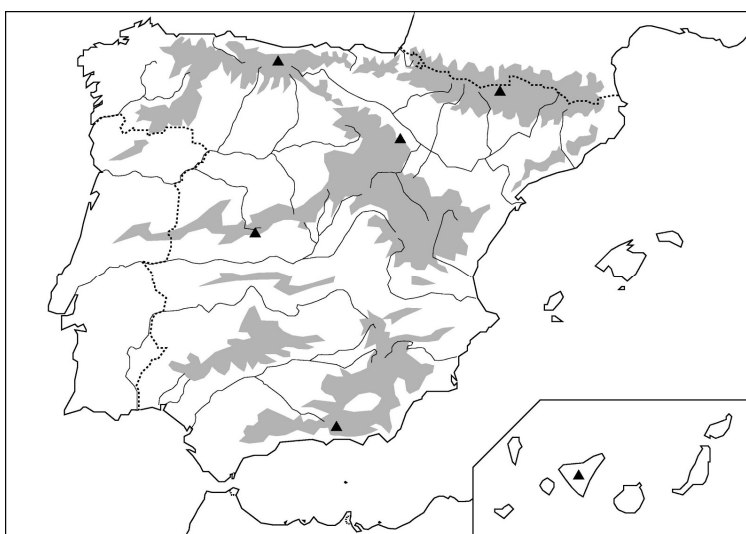


C

A	
B	
C	

6. Sitúa en el mapa los siguientes ríos:

- Miño
-
- Nalón
-
- Júcar
-
- Guadiana



7. Sitúa en el mapa los siguientes montes:

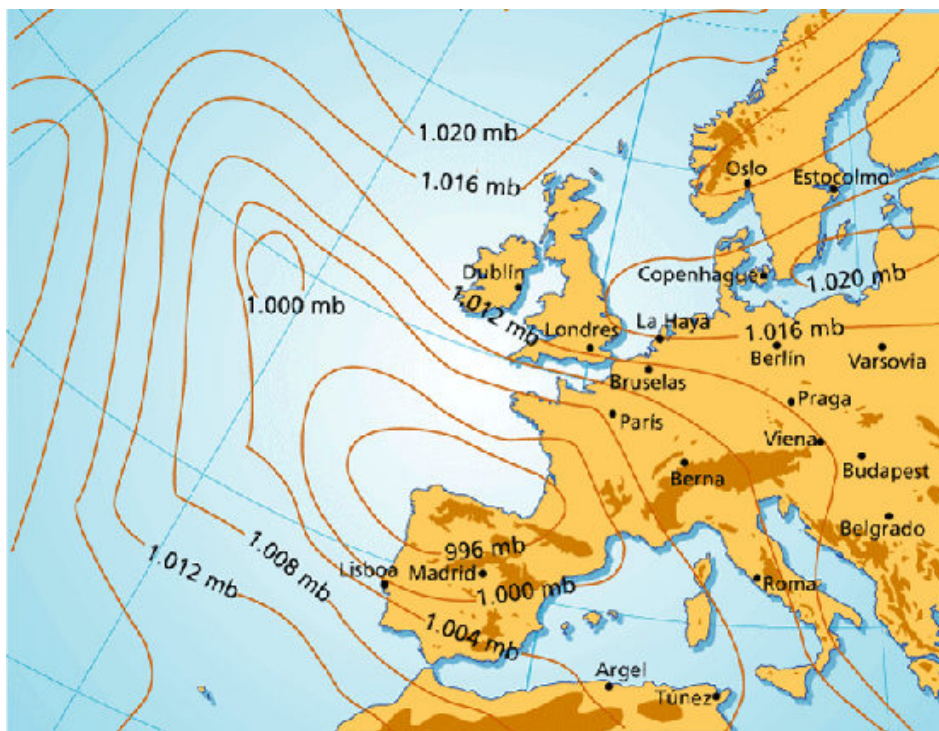
- Gorbea
-
- Amboto
-
- Salvada
-
- Aitzkorri



8. Ordena cronológicamente los siguientes datos históricos (del 1 al 10).

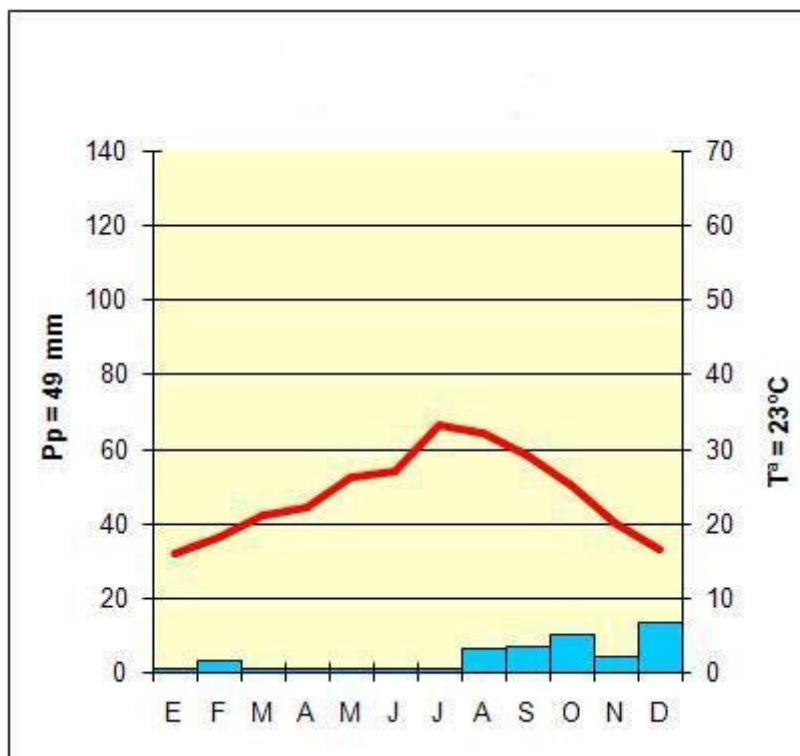
- Primera Guerra Mundial
- Desaparición de la URSS
- Atentado a las Torres gemelas en Nueva York
- Revolución de los claveles
- Revolución Rusa
- Segunda Guerra Mundial
- Constitución de Cádiz
- Primera Guerra carlista
- Democracia en Atenas
- Crisis de los misiles en Cuba

9. Qué concepto representa este mapa? Defínelo brevemente.



A large empty rectangular box provided for the student's answer to the question.

10. Indica las características de las temperaturas y la pluviosidad del siguiente climograma. ¿A qué tipo de clima corresponde?



11. Relaciona los siguientes países con su correspondiente sistema político:

1	Corea del Norte		República de régimen presidencial
2	Canadá		República parlamentaria.
3	Ruanda		República de régimen semipresidencial.
4	Italia		Monarquía constitucional de régimen parlamentario
5	Bolivia		República socialista

12. Observa y comenta la siguiente imagen. ¿Conoces su título, autor, o a qué estilo artístico pertenece? Expresa tu opinión sobre la forma y el tema que su autor desarrolla en la misma.



13. Indica de qué accidente geográfico se trata y en qué continente se sitúa, siguiendo el primer ejemplo.

Ebro	Río	Europa
Atacama		
Mekong		
Sumatra		
Alpes		
Bering		

14. Señala si las siguientes frases son verdaderas (V) o falsas (F):

El Parlamento vasco está formado por 30 representantes, 10 por cada territorio.	
El Lehendakari es elegido por los parlamentarios-as del Parlamento vasco.	
Los miembros del Gobierno vasco son elegidos por los parlamentarios-as del Parlamento vasco.	
El Ararteko es elegido por los parlamentarios-as del Parlamento vasco.	
El Ararteko es elegido por los alcaldes de las capitales de provincia del País Vasco.	

15. Relaciona los términos y conceptos sobre la historia mundial de ambas columnas, poniendo el número correspondiente.

1	Guerra Fría		Mijail Gorbachov
2	Revolución cubana		Blitzkrieg
3	Desaparición de la URSS		Alemania oriental
4	Guerra relámpago		Fidel Castro/Che Guevara
5	Construcción del Muro de Berlín		Gobierno de Vichy
6	Segunda Guerra Mundial		Kruschev/Kennedy

16. Explica el significado del artículo 6 de la Declaración Universal de Derechos Humanos, que dice:

Artículo 6.- Todo ser humano tiene derecho, en todas partes, al reconocimiento de su personalidad jurídica.

17. Define el término “Ley sálica”

--

18. Relaciona los términos y conceptos sobre Instituciones de carácter internacional de ambas columnas, poniendo el número correspondiente.

1	ONU		Organización para la Cooperación y el Desarrollo Económico.
2	OTAN		Organización de las Naciones Unidas para la Educación, la Ciencia y la Cultura.
3	UNESCO		Organización del Tratado del Atlántico Norte
4	UE		Organización de las Naciones Unidas
5	OCDE		Unión Europea

Segunda parte
Lee el siguiente texto y responde a las preguntas.
Puntuación Total 3 p.

La revisión por el Instituto Nacional de Estadística (INE) del censo de 2013, cuyos datos se dieron a conocer ayer, ha revelado que Euskadi perdió 1.411 residentes respecto a 2012, situándose en 2.191.682 habitantes el pasado 1 de enero. Esa reducción, de apenas el 0,06% fue notablemente inferior en términos relativos a la del conjunto de la población española, que perdió un 0,29% y se quedó en 47.129.783 empadronados.

Dentro de Euskadi, la evolución del censo varió según el territorio histórico. Únicamente Gipuzkoa vio aumentar sus habitantes y sumó 1.721 más. Fue una de las pocas provincias españolas que creció, alcanzando, según el INE, los 713.818 empadronados, lo que supone un incremento del 0,24%. En cambio Álava fue la provincia vasca que más población perdió proporcionalmente, con una caída del 0,35%. En números absolutos sufrió un recorte de 1.140 habitantes y se situó en 321.417. Bizkaia, por su parte, perdió 1.992 residentes, lo que arroja un retroceso del 0,17%, y se quedó en 1.156.447.

En las capitales vascas el patrón se repitió. Sólo en San Sebastián el censo se mantuvo, con un imperceptible incremento del 91 vecinos y llegando a 186.500. Bilbao sufrió una sangría de 2.273 habitantes (340.356) y Vitoria perdió 837 (241.836).

A medio y largo plazo, las previsiones del INE no son nada halagüeñas. Para el período 2013-2023 ha previsto la pérdida de 161.000 residentes en Euskadi, lo que representa el 7,4% del padrón. De ese modo, el País Vasco tendría en 2023 poco más de 2.030.000 habitantes y habría perdido más población en términos relativos que el conjunto de España.

El empeoramiento del escenario se explica porque el incremento de habitantes registrado en Euskadi durante la pasada década se debió esencialmente a la llegada de inmigrantes. Con la crisis, ese proceso se ha atenuado y ahora reaparecen los efectos del envejecimiento de la sociedad y la caída de la natalidad.

El Instituto Vasco de Estadística (Eustat) ya señaló esa tendencia al analizar los indicadores demográficos de 2011. Llegó a la conclusión de que una de cada cuatro mujeres vascas no tendrán hijos. Y es que en 2011 el promedio de vástagos se limitó a 1,3, lo que no llega ni a la mitad de los 2,11 hijos-as necesarios para asegurar el relevo generacional.

El Correo 2013

Tercer parte: Mundo Laboral
Cada pregunta vale 0,5 p.
Puntuación Total: 2,5 p.

1. Define el Derecho del Trabajo y en qué tipos puede dividirse.

2. De las siguientes variaciones de la relación laboral identifica las que suponen modificación (M), suspensión (S) o extinción del contrato de trabajo (E).

Traslado a otro centro de trabajo.	
Dimisión	
Despido disciplinario.	
Cumplimiento de la prestación social sustitutoria.	
Cierre legal de la empresa	
Cambio del sistema de remuneración	







3. Maribel trabaja en una empresa de programación informática desde hace ocho años. Es programadora, y pasa toda su jornada sentada frente a su ordenador, trabajando con una gran concentración. A menudo debe trabajar horas extras para cumplir con los plazos.

Su silla tiene el respaldo roto y se inclina hacia atrás en exceso, pero ella está acostumbrada y no le importa. Tiene la costumbre de inclinarse y apoyar la silla en dos patas, porque le ayuda a pensar.

¿Qué carga de trabajo sufre Maribel, cuáles son las posibles consecuencias de la misma?

4. Indica al pie de cada símbolo con qué tipo de peligro/riesgo está relacionado:

- Peligro Alto Voltaje
- Riesgo por láser
- Riesgo ante campos magnéticos
- Riesgo por radiación
- Peligro radiación no ionizante
- Riesgo biológico

5. Señala si las siguientes frases son verdaderas (V) o falsas (F) en relación a los principios del cooperativismo:

Todos los beneficios que se obtengan tienen que ser repartido a partes iguales entre los cooperativistas	
Se forma parte de una cooperativa de forma voluntaria.	
La gestión es democrática. Aunque las decisiones muy importantes sólo las puede tomar el presidente-a de la cooperativa	
Ejemplos de cooperativas en el ámbito vasco son: Eroski, Vasofar, Garlan, Mondragón Corporación.	