



GRADUADO EN EDUCACIÓN SECUNDARIA OBLIGATORIA

PRUEBA LIBRE

Ejercicio 2: ÁMBITO SOCIAL

MAYO 2012

Apellidos y nombre: _____

INSTRUCCIONES

- En este cuadernillo encontrarás los ejercicios del ÁMBITO SOCIAL.
- Lee atentamente las preguntas y contesta lo mejor que sepas.
- Si terminas antes del tiempo fijado, repasa bien lo que has hecho.

Descripción de la prueba

- La prueba tiene tres partes:
 - En la primera hay preguntas sobre temas generales de geografía, arte e historia.
 - En la segunda se presenta un texto que debes leer con atención; después deberás responder a las cuestiones que se te planteen sobre dicho texto.
 - En la tercera se plantean preguntas sobre el mundo del trabajo.
- Cada uno de los ejercicios lleva indicado el criterio de calificación.
- Las respuestas erróneas no se puntuarán negativamente.
- En las preguntas de relacionar y ordenar sólo puntuarán las respuestas correctas en su totalidad.

Primera parte

1. ¿Qué es y dónde está?. Sigue el ejemplo (0,5)

		Qué es	En qué continente/océano
1	AMAZONAS	Un río	En América
2	ANDES		
3	CARIBE		
4	CUBA		
5	DANUBIO		
6	EBRO		
7	HIMALAYA		
8	IBAIZABAL		
9	NILO		
10	SAHARA		
11	ZADORRA		

2.Cuál de las opciones (A, B, C, D) localiza correctamente en el mapa estos acontecimientos históricos? (0,25)

A	C
Revolución rusa - 1 Independencia de la India - 3 Revolución china - 2 Independencia de Estados Unidos - 4 Revolución cubana - 5	Revolución rusa - 1 Independencia de la India - 2 Revolución china - 3 Independencia de Estados Unidos - 5 Revolución cubana - 4
B	D
Revolución rusa - 2 Independencia de la India - 1 Revolución china - 3 Independencia de Estados Unidos - 4 Revolución cubana - 5	Revolución rusa - 2 Independencia de la India - 1 Revolución china - 4 Independencia de Estados Unidos - 3 Revolución cubana - 5



A B C D


3. Señala si es verdadero (V) o falso (F). (0,5)

- El clima es el estado de la atmósfera en un momento preciso y en un lugar determinado.
- El petróleo, el gas y el carbón son combustibles fósiles.
- La biomasa es una fuente de energía renovable.
- La energía eólica aprovecha la fuerza del viento.
- La carne, la lana y la seda son materias primas animales.
- India, Vietnam, Kampuchea son países que sufren sequía.
- Actualmente el consumo de agua está considerado como un índice de riqueza de las poblaciones.
- Eritrea, Etiopía y Somalia son países que sufren sequía.
- Las materias primas son los productos elaborados a partir del medio natural.
- Se denomina tasa de habitabilidad al número de habitantes que viven en un espacio determinado por km²

4. Ordena de más antiguo a más moderno. Sigue el ejemplo (0,5)

	CONSTRUCCIÓN DE LA PIRÁMIDE DE KEOPS
	INVENCÓN DE LA ESCRITURA
	NACIMIENTO DE CRISTO
1	HOMO CROMAGNON
	APARICÓN DE INTERNET
	REVOLUCÓN FRANCESA
	DESCUBRIMIENTO DE AMÉRICA
	NACIMIENTO DE MAHOMA
	DESARROLLO DEL CAMINO DE SANTIAGO
	APARICÓN DE LOS PRIMEROS SINDICATOS
	2. ^a GUERRA MUNDIAL

5. Escribe el nombre con el que son conocidas las siguientes obras. (0,4)



a..... b.....



c d.....

6. Relaciona las columnas utilizando los números. (0,5)

1	Descolonización	Búsqueda del equilibrio entre crecimiento económico y recursos naturales.
2	Desarrollo sostenible	Conjunto de países subdesarrollados con renta baja y producción escasa.
3	Feudo	Persecución y asesinato sistemático burocráticamente organizado de aproximadamente seis millones de judíos. También lo sufrieron otros grupos: gitanos, discapacitados, comunistas, socialistas, homosexuales...
4	Globalización	Proceso que llevó a las antiguas colonias europeas a conseguir su independencia.
5	Estado del bienestar	Proceso por el cual la creciente comunicación e interdependencia entre los distintos países del mundo unifica mercados, sociedades y culturas.
6	Hégira	Movimiento pictórico del siglo XIX que abrió nuevos caminos en el estudio de la luz y el color.
7	Holocausto	Importante transformación económica como consecuencia de la aplicación de las máquinas a los procesos de producción.
8	Impresionismo	Territorio recibido por los nobles o la iglesia de manos del rey como pago por la ayuda militar que le prestaban.
9	Revolución industrial	Fecha que da inicio al calendario musulmán; recuerda la huida de Mahoma desde la Meca hasta la ciudad de Medina (año 622).
10	Tercer Mundo	Garantía que da el estado, en países desarrollados, de un mínimo de bienestar cultural, económico y social.

7. Marca con una X o un círculo la respuesta correcta. (0,45)

Una sociedad que tiene empresas filiales repartidas por el mundo se llama...

- Banco Mundial.
- Fondo Monetario Internacional.
- Multinacional.
- Globalización.

La institución que financia proyectos de desarrollo en países pobres se llama...

- Banco Mundial.
- Fondo Monetario Internacional.
- Multinacional.
- Globalización.

El comienzo de la II Guerra Mundial fue provocado por...

- el ataque japonés sobre la base de Pearl Harbor.
- la ocupación alemana de Abisinia.
- la ocupación alemana de Polonia.
- el atentado de un estudiante bosnio contra el heredero de Austria.

La primera ciudad atacada con bomba atómica fue...

- Tokio.
- Kyoto.
- Hiroshima.
- Toyota.

Se dice que la Transición española empezó...

- tras la muerte de Franco, en 1972.
- tras la muerte de Franco, en 1975.
- tras la muerte de Franco, en 1982.
- tras la muerte de Franco, en 1985.

La especialidad de la UNESCO es...

- agricultura / alimentación.
- salud.
- educación / ciencia / cultura.
- infancia.

El muro de Berlín cayó en...

- 1969.
- 1979.
- 1989.
- 1999.

La Cámara de los Diputados y la del Senado integran el...

- poder judicial.
- poder legislativo.
- poder ejecutivo.
- poder electoral.

En África, en la década de los 90 hubo guerra en...

- Ruanda, Kampuchea y Liberia.
- Corea del Norte, Liberia y Sierra Leona.
- Eritrea, Cachemira y China.
- Sudán, Argelia y Liberia.

Segunda parte

Lee atentamente el texto y después responde a las cuestiones.

La organización política de la sociedad

Cualquier tipo de agrupación humana necesita de una mínima organización para la consecución de sus fines y su permanencia como tal.

La sociedad política humana ha evolucionado desde las primitivas organizaciones tribales hasta la actual forma denominada Estado. Las formas de organización sociopolítica previas a esta última se establecen en un principio de modo no jerárquico, horizontal y basándose en vínculos familiares y tribales. Posteriormente, surge la figura del jefe, la jerarquía, la especialización y la solidaridad orgánica, es decir, una sociedad política.

En la sociedad moderna, el Estado garantiza la seguridad del individuo y sus posesiones y delimita las libertades individuales, determinando derechos y deberes. El poder político garantiza un orden en la vida social.

Hoy, las sociedades desarrolladas han alcanzado un nivel de complejidad que necesita de un no menos complejo sistema político. Las democracias son sistemas atentos a los intereses de sus diversos grupos e individuos. La unidad del Estado ha marcado los últimos siglos. Se complementa, por un lado, con una descentralización que refleja las peculiaridades de sociedades más pequeñas (comunidades autónomas, cantones suizos, Länder alemanes), con diferentes niveles de autogobierno; y por otro, con unidades supranacionales, cada vez más necesarias en un mundo globalizado, como la Unión Europea o la ONU.

Cada Estado se organiza territorialmente en unidades políticas. El Estado Español posee tres niveles de Administración territorial:

- Municipio, formado por una o varias localidades regidas por el mismo Ayuntamiento. La función del Ayuntamiento, formado por la alcaldía y las concejalías, es la organización de los servicios municipales (limpieza, transportes, bomberos y otros). Para financiarlos, recaudan tasas e impuestos.
- Provincia, formada por varios municipios y organizada en torno al más importante de todos ellos. Su órgano de gobierno son las diputaciones provinciales. En el caso de Euskadi, estas diputaciones reciben el nombre de Diputación Foral y poseen la capacidad de imponer y recaudar impuestos; las provincias reciben el nombre de Territorios Históricos, y hay además Juntas Generales. Las Juntas Generales vienen a ser parlamentos provinciales, que no hay en otras provincias, y realizan una labor de control de la gestión de éstas. Su origen está en antiguos órganos parlamentarios soberanos. Sus miembros se eligen cada cuatro años.
- Comunidad autónoma, formada por una o varias provincias. Incluye:
 - Gobierno autónomo. Sus cabezas visibles son, en el caso de Euskadi, el Lehendakari y los diferentes consejeros.
 - Parlamento autonómico. Es la cámara legislativa. En Euskadi está formado por 75 parlamentarios, 25 por cada uno de los tres Territorios de la comunidad.
 - Tribunal Superior de Justicia.
 Euskadi cuenta además con:
 - Ertzaintza o policía autónoma
 - Defensor del pueblo o Ararteko, que recibe quejas de la ciudadanía y elabora informes para mejorar el funcionamiento de la Administración.

- Tribunal Vasco de cuentas, institución que examina las cuentas públicas y advierte de posibles errores

hiru.com (adaptado)

1. Según el texto,

(0,5)

Se dice que...	SÍ	NO
En Euskadi los impuestos los recauda el gobierno autónomo vasco.		
Desde el principio el estado fue la organización básica.		
La sociedad humana necesita organizarse para poder permanecer como tal.		
En la sociedad moderna el poder político garantiza la seguridad del individuo y sus posesiones, y delimita las libertades individuales.		
En las democracias actuales, el estado ha sido sustituido por unidades más pequeñas o por unidades supranacionales.		
Las Juntas generales constituyen la cámara legislativa de la Comunidad Autónoma Vasca.		
Es función del Ayuntamiento la organización de los servicios municipales.		
El Lehendakari es el presidente del Tribunal Superior de Justicia del País Vasco.		
El Ayuntamiento puede recaudar impuestos.		
La centralización del Estado Español se complementa con distintos niveles de autogobierno.		

2. Relaciona cada capital de provincia con su comunidad.

(0,25)

	Capital de provincia
1	Badajoz
2	Barcelona
3	Ciudad real
4	Huelva
5	Huesca
6	Logroño
7	Lugo
8	Pamplona
9	Tenerife
10	Zamora

	Comunidad autónoma
	Andalucía
	Aragón
	Canarias
	Castilla-La Mancha
	Castilla y León
	Cataluña
	Extremadura
	Galicia
	Navarra
	Rioja

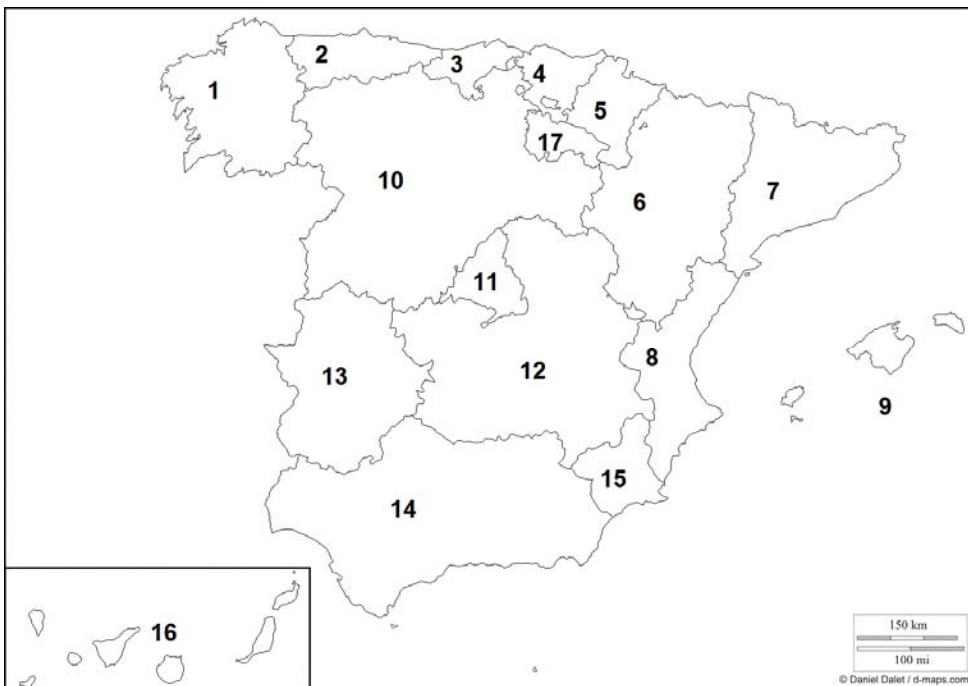
3. Relaciona las columnas.

(0,35)

	Organismo supranacional
1	FMI
2	GREENPEACE
3	MÉDICOS SIN FRONTERAS
4	ONU
5	OTAN
6	OIT
7	UNESCO

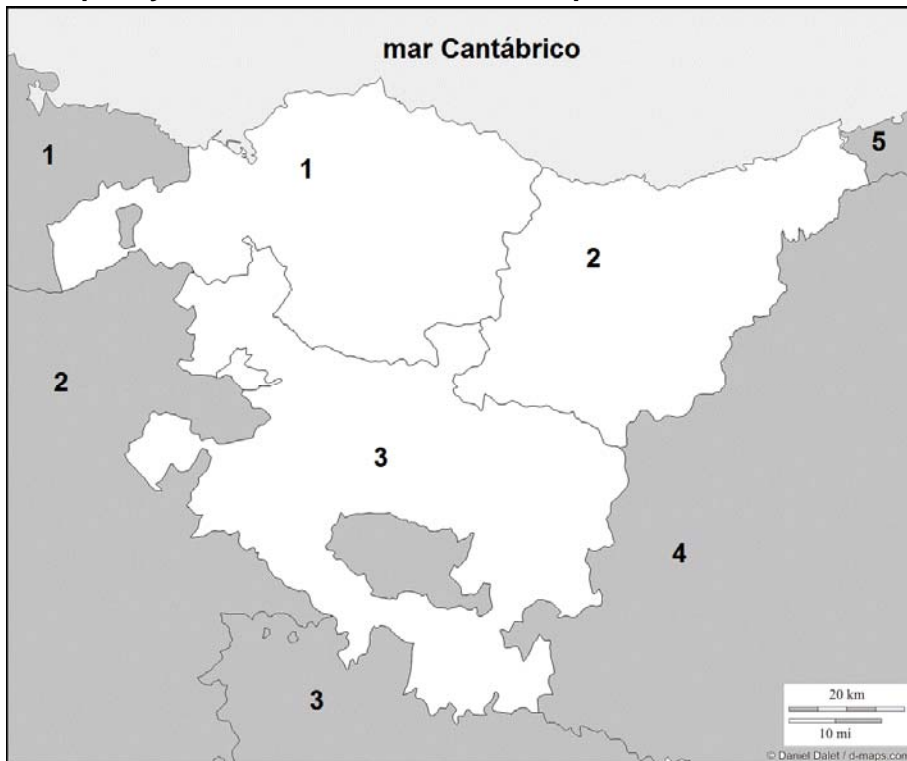
	Carácter
	Humanitario
	Económico
	Militar
	Político
	Ecológico
	Laboral
	Educativo cultural

4. La organización territorial. Escribe el nombre de las comunidades autónomas españolas numeradas en el mapa. (0,85)



- 1
- 2
- 3
- 4
- 5
- 6
- 7
- 8
- 9
- 10
- 11
- 12
- 13
- 14
- 15
- 16
- 17

5. Escribe en la tabla correspondiente el nombre de los tres territorios históricos que integran la Comunidad Autónoma Vasca, indicando también su capital y el nombre de los territorios que la limitan. (0,55)



Territorio histórico:	
1	
2	
3	
Capital	
1	
2	
3	
Territorio limítrofe	
1	
2	
3	
4	
5	

6. Escribe en el mapa el nombre de diez países que pertenezcan a la Unión Europea. (0,5)



7. En el texto se mencionan las “unidades supranacionales” y el “mundo globalizado”. Escoge uno de los dos temas y desarróllalo en un mínimo de quince líneas. (1)

Tercera parte

1. Después de leer el siguiente titular de prensa, señala cuál de las cuatro conclusiones coincide con el texto. (0,25)

“Intermón acusa a la moda española de propiciar la explotación del tercer mundo. Las grandes empresas textiles imponen a sus proveedores de los países pobres precios muy bajos y unos plazos de entrega que exigen jornadas interminables.”

- Las grandes empresas textiles no son responsables de la situación laboral de los trabajadores de los países pobres.
- Las grandes empresas textiles solo deben preocuparse de reducir los costes laborales, ya que de esta manera pueden bajar los precios de sus productos.
- Las grandes empresas no deben preocuparse de las condiciones laborales sino de proporcionar empleo a la población.
- Las grandes empresas textiles son responsables de las precarias condiciones laborales que se dan en los países pobres debido a sus exigencias de precios bajos y plazos de entrega muy cortos.

2. Relaciona conceptos con definiciones. (0,7)

	CONCEPTOS	DEFINICIONES
1	Contrato de trabajo	Aportación económica a la seguridad social realizada por trabajadores y empresarios.
2	Cotización	Cese o paralización de la actividad productiva por parte de los trabajadores para presionar al empresario con la finalidad de obtener determinadas reivindicaciones.
3	Economía sumergida	Medio establecido en la ley para modificar una resolución judicial.
4	Estatuto de los trabajadores	Acuerdo entre empresario y trabajador por el que éste se obliga a prestar determinados servicios por cuenta del empresario y bajo su dirección, a cambio de un salario.
5	Expediente de regulación de empleo	Sistema público español por el que el estado garantiza a las personas que se encuentran dentro de su campo de actuación la protección adecuada en las contingencias que la ley establece.
6	Huelga	Impuesto indirecto sobre el consumo que se paga en cada uno de los bienes y servicios.
7	Inflación	Son los servicios que da la Seguridad Social. Hay dos tipos, contributivas y no contributivas.
8	IVA	Pago que recibe en forma periódica un trabajador de manos de su empleador a cambio del trabajo para el que fue contratado.
9	Jornada	Procedimiento propio de los despidos colectivos.
10	Oposición	Realización de exámenes de contenidos determinados en convocatoria oficial y, a veces, también de una prueba de carácter práctico.
11	Prestación	Tiempo dedicado al trabajo cada día.
12	Recurso	Norma principal que rige los derechos del trabajador.
13	Salario	Aumento del nivel de precios. El referente suele ser el IPC.
14	Seguridad social	Actividad económica que permanece ajena al control del estado.

3. Completa los huecos con la palabra que creas correcta. (0,8)

Hasta el nacimiento del derecho (1) _____ se sucedieron diversos momentos.

En un principio estaban los (2) _____ que llevaban a cabo la mayor parte del trabajo y carecían de personalidad jurídica, siendo tratados como objetos.

Ya en la Alta Edad Media (siglos V-XI) aparecen los (3) _____ que trabajaban la tierra para el señor feudal y estaban ligados a ella.

Fue durante la Baja Edad Media (siglos XII-XV) cuando aparecen en las ciudades medievales los (4) _____ que se organizaban en artesanos y comerciantes.

Existían tres tipos de agremiados: maestros, oficiales y (5) _____ .

Llegó la revolución (6) _____ y con ella las innovaciones tecnológicas.

Nacen las grandes fábricas y se produce una gran demanda de trabajadores, que constituyen el (7) _____ . Durante esta época las condiciones de trabajo eran dramáticas.

Así, el derecho laboral o del trabajo nace en el siglo XIX con el movimiento obrero y un (8) _____ que al final tuvo que intervenir con leyes protectoras.

4. Señala en cada caso la respuesta correcta. (0,15)

Al sistema público cuyo objetivo es la protección de las personas incluidas en su campo de aplicación y los familiares a su cargo frente a determinados riesgos o contingencias que les ocasionen situaciones de necesidad, se le denomina:

- mutua solidaria asistencial.
- mutua asistencial.
- seguridad social.
- mutualidad laboral.

A la capacidad que tienen los propios grupos profesionales, trabajadores y empresarios de pactar las condiciones de trabajo se le llama:

- estatuto laboral.
- reglamento laboral.
- contrato de trabajo.
- negociación colectiva.

A las organizaciones cuyos objetivos son la defensa de los trabajadores y trabajadoras y la promoción de sus intereses económicos y sociales, así como la mejora de las condiciones de trabajo se les llama:

- asociaciones de trabajadores.
- sindicatos.
- partidos políticos.
- asociaciones empresariales.

5. Explica la diferencia entre trabajo autónomo y por cuenta ajena. (1)